

المرحلة: الثانية

المادة: نصوص أثرية باللغة الانكليزية

نموذج: (1)

الوقت: 3 ساعات



جامعة طريرت
الامتحانات النهائية
2024-2023

وزارة التعليم العالي والبحث العلمي

جامعة تكريت

كلية الآداب

قسم الآثار

Q1// (10 marks)

A: What are ethnologists concerning themselves with ? (5 marks)

B: Give the meanings in Arabic for the following words:(Only 5) (5 marks)

1- Divide		3- Westerly		5- Anatomical	
2- Solution		4- Drainage		6- Nomads	

Q2// (10 marks)

A: What does the Jazera mean in English? (5 marks)

B: Give the meanings in Arabic for the following words:(Only 5) (5 marks)

1- Cliff		3- Estuarine		5- Stretch	
2- Analysis		4- Evident		6- Fossil	

Q3// (10 marks)

A: What is the third field of anthropology? (5 marks)

B: Give the meanings in Arabic for the following words:(Only 5) (5 marks)

1- Situated		3- Hierarchy		5- Flood	
2- Pasture		4- Extension		6- Explore	



المرحلة الثالثة
المادة: اللغات قديمة
نموذج: (2)
الوقت: 3 ساعات

ملاحظة:- الأسئلة صفحتان والاجابة على ستة اسئلة فقط لكل سوال عشر درجات

س1/ ترجم النص التالي الى اللغة العربية واعربه اعرابا مفصلا
šum-ma a-wi-lum aš-ša-tam i-ḥu-uz-ma ri-ik-sa-ti-ša i-š-ku-un
SAL ši-i ū-ul aš-ša-at

س2/ ترجم النص التالي الى اللغة العربية واعرب ما تحته خط

šum-ma A.ZU ší-ma-am kab-tam ERU(M) MAŠ.EN.KAK i-na GÍR.NI
UD.KA.BAR i-pu-uš-ma uš-ta-mi-it ERU(M) ki-ma ERU(M) i-ri-ab

س3/ اجب بعبارة صح او خطأ وصحح الخطأ اينما وجد لكل مما يأتي:

- 1- mu-ub-bi-ir-šu/-1 : فعل ماضي من الصيغة G للشخص الثالث المفرد (الغائب) بمعنى (إتهم)
2- uk-ti-in-šu/-2 : فعل من الزمن التام من الصيغة الثانية D للشخص الثالث المفرد (الغائب) من المصدر katanu بمعنى يتثبثها. X
3- ū-ši-a-am/-3 : فعل ماضي من الصيغة البسيطة G للشخص الثالث المفرد من المصدر wašu بمعنى خرج او ذهب. V
4- a-ra-an/-4 : مفردة اكديّة من المصدر arnu او annu بمعنى (ذنب او إثم) V
5- it-ta-na-aš-ši/-5 : فعل مضارع من الصيغة الرابعة المزيّدة بال(N) للشخص الثالث الجمع (الغائبون) من المصدر tanašu بمعنى (يتحملها).

س4/ على ماذا تدل العبارات السومرية الاتية (حلها واعط معانيها)

NIN.IN.DUB.BA/-1

NITAḤ.KALA.GA/-2

KI.BI/-3

ḌŠUL.UTULLA.AM₆/-4

UNUG^{KI}/-5

س15/ اقرا وحل وترجم النص A

س16/ اقرا وحل وترجم النص B

س17/ اقرا وحل وترجم النص C

تمنيتي لكم بالنجاح والموفقية

رئيس القسم: أ.م.د مهند خلف جمين

مدرس المادة: أ.د عبدالله علي محمد التميم

٢٠٢٤/٥/٧



وزارة التعليم العالي والبحث العلمي
جامعة تكريت
كلية الآداب
قسم الآثار

جامعة تكريت
الامتحانات النهائية
2024-2023

المرحلة: الأولى
المادة: لغات قديمة
نموذج: (أ)
الوقت: 3 ساعات

ملاحظة (أجب عن أربعة أسئلة لكل سؤال 15 درجة)

س1/ عرف ما يأتي:

1- Phonology -2 Pholophonies -3 Homophonies -4 العلامات الدالة

5- الكتابة المسمارية.

س2/ اختر العبارة الصحيحة مما يأتي:

أ- اسم مفرد مذكر في حالة الجر:

(šarrum, šarram, šarrim)

ب- مثنى في حالة النصب:

(šīnān, šīnīn, šīnēn)

ج- جمع مؤنث في حالة الجر:

(šihhirutim, šihhiratim, šihhirūtīm)

د- جمع مذكر في حالة النصب:

(šarrū, šarrā, šarrī)

هـ - جمع مؤنث:

(malkatum, šābitum, amātīm)

س3/ للاسم في اللغة الأكديّة جنسان ما هما؟ اذكرهما، مع التمثيل لهما.

س4/ مرت اللغة السومرية بعصورٍ وأزمنةٍ مختلفة، وضح تلك الأزمنة بشيءٍ من التفصيل.

س5/ ماهي طرق جمع الاسم في اللغتين (السومرية والأكديّة)؟ مع التمثيل لكل طريقة بمثال.

رئيس القسم:
أ.م.د. مهدي خلف جمين

مدرس المادة:
أ.د. خالد علي خطاب



Q4//

(10 marks)

A: What is the most prominent valley that cuts the Jazera?

(5 marks)

B: Give the meanings in Arabic for the following words: (Only 5)

(5 marks)

1- Parallel		3- Primitive		5- Plateau	
2- Article		4- Winds		6- Alluvial	

Q5: Give the synonyms for the following words: (Only 10)

(10 marks)

1- Country		7- Mound	
2- Characteristics		8- Uncertain	
3- Situated		9- Ground	
4- Island		10- Prominent	
5- System		11- Inundation	
6- Shore		12- Stretch	

Q6: Transform the following active sentences into passive ones.

(10 marks)

1. Tom repaired the car.

(2 marks)

2. She opens the door .

(2 marks)

3. He wrote two poems.

(2 marks)

4. My mother gives me a gift.

(2 marks)

5. The gardener waters the flowers every evening .

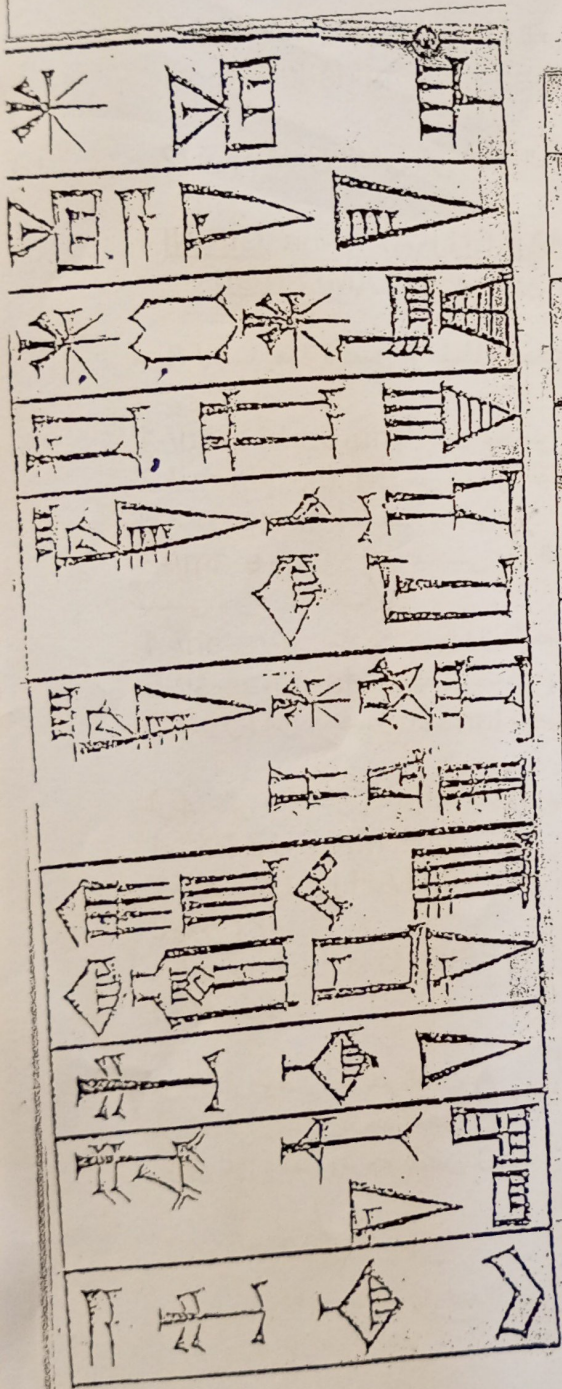
(2 marks)

رئيس القسم
أ.م.د. مهند خلف جمين

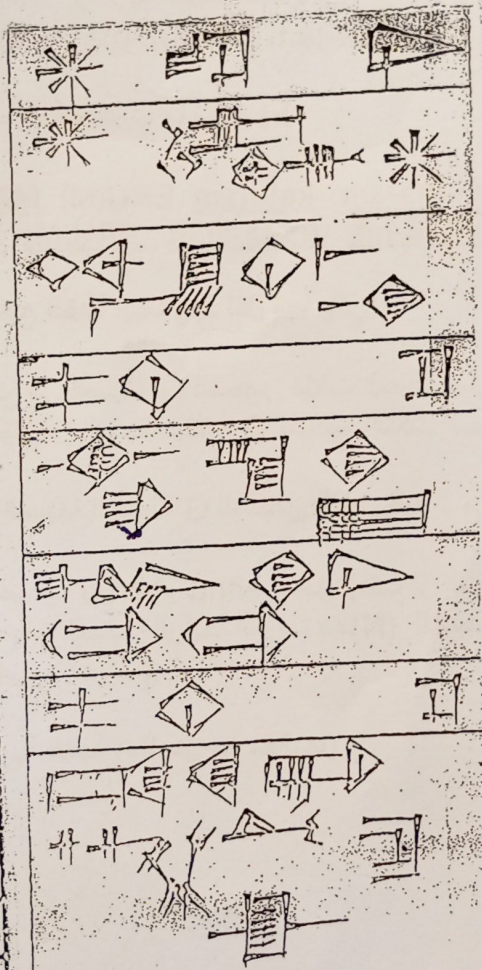


مدرس المادة
أ.م.د. ايمان ماهر جليل


A



B



C



ملاحظة: الاجابة عن اربعة اسئلة فقط. (لكل سؤال 15 درجة)

س1: عرف ماياتي:

1- اوتوحيكال 2- دور كوريكالزو 3- سرجون الاكدي 4- نينوى 5- اسرة لكش الثانية

س2: املا الفراغات التالية بما يناسبها لكل ماياتي:

1- ظهرت بوادر المدن خلال العصر الشبيه بالتاريخي في جنوب العراق في مواقع هي.....و.....و.....

2- ان.....و.....و.....هم ابرز الملوك الذين حكموا المملكة الاشورية خلال عصرها الوسيط.

3- كان للملك اورنمو مجموعة من المنجزات هي.....و.....و.....

س3: اكتب تقريراً علمياً عن أهمية الفخار في الدراسات الأثرية.

س4: اكتب مقالة تاريخية عن احوال بلاد الرافدين خلال عصر مملكة بابل الثانية (العصر الكشي).

س5: ضع علامة صح امام العبارة الصحيحة وعلامة خطأ اما العبارة الخاطئة لكل مماياتي.

1- جمع القوت هي التسمية التي اطلقت على العصر الذي بدا الانسان فيه بتعلم الزراعة.

2- ان اول من حاول توحيد بلاد الرافدين هو الملك سرجون الاشوري.

3- كان الملك نرام سين ابرز ملوك عصر فجر السلالات.

4- ان التنقيبات الأثرية هي مصدر معلوماتنا الرئيس عن تاريخ وحضارة العراق القديم.

5- ان اول عصور عاشها الانسان في بلاد الرافدين قبل اختراع الكتابة اطلق عليها عصور ما قبل التاريخ.

رئيس القسم
ا.م.د. مهند خلف جمين



مدرس المادة

ا.د. محمود فارس عثمان



ملاحظة: أجب عن خمسة أسئلة فقط لكل سؤال ١٢ درجة

س١ / صرف الفعل (parasu) لصيغة الماضي من صيغة D ولجميع الصيغ الفعلية

س٢ / وضح اسم الفاعل من صيغة Š في اللغة الاكدية

س٣ / اختر الإجابة الصحيحة من العبارات الآتية

- ١ _ من لواحق الصيغة المستمرة هي (anu,ali,ani)
- ٢ _ تعد لاحقة nim من (افعال الحركة، ضمائر المفعول المباشر، الصيغة المستمرة)
- ٣ _ تعد الأداة li من ادوات التمني في اللغة الاكدية وتأتي مع (الغائبون، المتكلمون، المتكلم)
- ٤ _ يكون تصريف الصيغة المستمرة من صيغة Š (šupris,šuprusum,šuprus)

س٤ / ضع علامة (صح) امام العبارة الصحيحة وعلامة (خطأ) امام العبارة الخاطئة

- ١ _ الفعل ušapras فعل ماضي من صيغة D للغائب المذكر
- ٢ _ الفعل pursa فعل امر من صيغة G للمخاطب المذكر
- ٣ _ šapranu صيغة مستمرة من صيغة Š للمتكلمون
- ٤ _ من ضمائر الاستفهام في اللغة الاكدية هي mannum
- ٥ _ taptarsi ماضي تام من صيغة G للمخاطب المؤنث
- ٦ _ من ضمائر المفعول المباشر kunuti تستخدم مع المخاطبون

س٥ / وضح ادوات التمني في اللغة السومرية

س٦ / مما تتألف الجملة الفعلية المتكاملة في اللغة السومرية

رئيس القسم:

أ. م. د. مهند خلف الشمري



مدرس المادة:
أ. م. د. مهند خلف



المرحلة: الرابعة

المادة: لغات قديمة



الوقت ثلاث ساعات

نموذج (١)



ملاحظة الإجابة عن أربعة أسئلة فقط لكل سؤال 15 درجة

B



س 1: اقرأ وحلل ثم ترجم للعربية العمود A

س 2: اقرأ ثم ترجم للعربية العمود B

س 3: ترجم الصيغ الآتية للعربية: اعتبر معك

1- ŠAM.TIL.LA.BI.ŠE 2- A.LA.BA 3- a-na aš-šū-tim i-ū-uz-ši
4- ŠU.LAL.MAŠ.NU.TUK 5-SAAR.DUL.KID.BI

س 4: اختر الإجابة الصحيحة من العبارات الآتية:

1_ حرف جر سومري بمعنى من (KA.KI.KU)

2_ مصطلح سومري يعني في المستقبل (U₄.KUR.ŠÈ, U₄.KAR, SUM.MA)

3_ مفردة سومرية يقابلها بالأكدية eqlum بمعنى حقل (EŠÈ, A.ŠÀ, KI.KAL)

4_ مصطلح سومري يعني مسلة (NA.RU.A, NA.RA.A.NA.RI.A)


5_ مصطلح يعني بخصوص (aš-šim, aš-šam, aš-šum)

س 5: تكلم عن الصراع بين اوما ولكش

تمنياتنا لكم بالنجاح

رئيس القسم
أ.م.د. مهدي خلف جمين

مدرس المادة:
أ.م.د. مهدي خلف جمين



ملاحظة أجب عن خمسة أسئلة فقط لكل سؤال ١٢ درجة

س١ / عرف ثلاث مما يأتي:
١- معركة وادي لكة ٢_ ابو الدوانيق ٣- سوق الثلاثاء ٤- السور الاعظم

س٢ / املاء الفراغات الاتية :
١- كانت قلعة حلب تسمى بالشهباء _____
٢- سميت مدينة واسط _____
٣- اشتهرت اسواق المنصور _____
٤- كان _____ يشكل العنصر الاساسي لمدينة شيراز

س٣ / تكلم عن قبة الصخرة بالتفصيل

س٤ / تحدث بايجاز عن مدينة واسط واسباب انشائها

س٥ / متى تم انشاء المدن التالية مع ذكر مؤسسها
١- المنصورة ٢- بغداد ٣- قرطبة ٤- حلب

س٦ / ما هي المميزات الرئيسية التي تمتاز بها مدينة البصرة

رئيس القسم:

أ.م.د. مهدي خلف الشمري

مدرس المادة:
د. نارة قاسم محمد





ملاحظة (أجب عن أربعة أسئلة لكل سؤال 15 درجة)

س1/ عرف خمسا مما يأتي:

- 1- كهف التاميرا.
- 2- طريقة كاربون 14 الإشعاعي.
- 3- الآلة المركبة.
- 4- التدجين.
- 5- تل شمشارة.
- 6- جرمو.

س2/ اختر الإجابة الصحيحة لما يأتي:

- أ- تضمن العصر الشبيه بالكتابي:
(عصر الوركاء الأول- عصر العبيد- عصر جمدة نصر).
- ب- من أشهر القرى الزراعية في محافظة السليمانية:
(أم الدباغية- حسونة- الأربجية- جرمو).
- ج- من الحضارات التي نمت واشتهرت في شمال أفريقيا:
(حضارة حلف- حضارة العبيد- الحضارة القفصية).
- د- يمثل المرحلة الرابعة والأخيرة من التطور البشري:
(نياندرتال- جاوة- الإنسان القرد- الإنسان العاقل).
- هـ - من المواقع الأثرية الواقعة في منطقة الجزيرة وتحديداً في جنوب سنجار:
(شمشارة- سامراء- أم الدباغية).



ملاحظة: الاجابة عن ستة اسئلة فقط.

- س١ / عرف كلاً مما يأتي: (١٠ درجات).
١- المسلات ٢- الآشوريون ٣- قصر ماري ٤- الزقورة ٥- الألواح الحجرية.

- س٢ / اختر الجواب المناسب لكل مما يأتي: (١٠ درجات).
١- استطاع الكشيون عبور نهر دجلة وتمركزوا في منطقة..... قبل دخولهم بابل.
أ- عانه ب- لكش ج- كيش
٢- تأثر الفن الآشوري بفن الدولة الميتامية زهاء..... من الزمن.
أ- قرن ب- قرنين ج- ثلاث قرون.
٣- من أشهر قصور ملوك عصر الانبعاث الآكدي هو قصر الملك.....
أ- شو- سين ب- اور- نمو ج- لوكال زاكيزي.
٤- يعد بناء..... اول تفوق للعمارة العمودية في البناء القديم.
أ- القصور الملكية ب- الزقورة ج- المعابد
٥- استغرق بناء مدينة خرسباد زهاء..... سنوات.
أ- اربعة ب- خمسة ج- ستة


- س٣ / اجب ب (صح) او (خطأ) لكل مما يأتي: (١٠ درجات).
١- من اروع نماذج النحت المجسم للاموريين هو تمثال الالهة انانا.
٢- اتخذ الملوك الاوائل من السلالة الكشية مدينة الوركاء عاصمة لهم.
٣- اهتم النحات الآكدي بتصوير المعابد والالهة فقط.
٤- تفوق النحاتون في العهد الكشي بنحت تماثيل حيوانية من الفخار.
٥- زينت جدران القصور الملكية في العهد الآشوري بالمنحوتات البارزة.

س٤ / هناك طرازان من الاختام الاسطوانية في العهد الكشي. بين اهم مواضيع الطراز الثاني: (١٠ درجات).

س٥ / تقسم الحقبة الآشورية استنادا لابرز الاحداث السياسية الى ثلاث فترات. عددها فقط: (١٠ درجات).


س٦ / استخدم الفنان الآكدي فيما يخص الاختام الاسطوانية اسلوبين في توزيع وحدات مشاهدته على الارضيات. وضح ذلك: (١٠ درجات).

س٧ / قارن بين النحات الآكدي والنحات السومري فيما يخص النحت المجسم. (١٠ درجات)


رئيس القسم:

أ.م.د مهند خلف الشمري

تمنياتنا لكم بالنجاح


مدرس المادة:

م.م غزال شهاب شاهر



ملاحظة / اجب عن خمسة اسئلة فقط

- س ١ : بصفتك طالب تخصص اثار. كيف تستطيع التفريق او الفصل بين المشاهد الزخرفية والمشاهد الطبيعية لفخاريات سامراء ؟
(٢ درجة)
- س ٢ : ماهي اهم الشروط المتبعة في عملية بناء الاهرام ؟
(٢ درجة)
- س ٣ : ناقش العبارة (مصر هبة النيل)
(٢ درجة)
- س ٤ : اكتب اثنا عشر عالما من علماء تاريخ الشرق الادنى مع ذكر مؤلف لكل واحد منهم ؟
(٢ درجة)
- س ٥ : ضع علامة صح اما العبارة الصحيحة وعلامة خطأ امام العبارة الخطأ.
ثم صحح الخطأ اينما وجد لست مما يأتي ؟
(٢ درجة)
- ١- يبدأ نهر النيل في شهر مايس بالارتفاع ما بين القاهرة واسوان
٢- تبلغ مساحة الارض الجرداء الغير قابلة للسكن في مصر ٩٦,٥ ٪ من المساحة الكلية لمصر
٣- بردية تورين دونت بالخط الديموطيقي وهي الان في ايطاليا
٤- بعرف اثبات ابيدوس بلوحة الاجداد
٥- الباقه من اسماء مصر القديمة وتعني السور
٦- عرفت مصر عند الاغريق والرومان باسم ايجوبتوس
٧- حكم الملك مينا ٦٠ عام في المملكة المصرية
س ٦ : تعد فخاريات العبيد اخر صناعة فخارية في العصر الحجري الحديث.
بين اهم مميزاتها ؟
(٢ درجة)

مع تمنياتي لكم بالنجاح

ا.م.د.
مهند خلف جمين
رئيس القسم



طعمه وهيب خزعل
استاذ المادة

ملاحظة : اجب عن خمسة اسئلة فقط

(٢ درجة)

س ١ : اكتب مقالة تاريخية عن اصل الشعب السيتي ؟

(٢ درجة)

س ٢ : لعبت المراكز الاشورية التاريخية دورا كبيرا في التاريخ القديم . اذكر اهم

(٢ درجة)

اقسام المراكز التجارية م ذكر موجز لكل قسم منها ؟

(٢ درجة)

س ٣ : بصفتك طالب دارس تاريخ شرق ادنى قديم . من اين جاءت تسمية ايران

وأصل تسميتها ؟

(٢ درجة)

س ٤ : ضع علامة صح امام العبارة الصحيحة وعلامة خطأ امام العلامة اما الخطأ .

ثم صحح الخطأ لسته منها اينما وجد ؟

١- يعتبر الشعب السيتي كردي الأصل

٢- اطلق اليهود على بلاد ايران بلاد العجم

٣- اسقط التحالف السيتي - الميدي مدينة نينوى في شهر اب عام ٦١٢ ق.م

٤- اطلق العيلاميون على بلادهم اسم ايرانشهر

٥- عرفت الارض المرتفعة عند الاكديين باسم ايلاتو

٦- تحالف الاشوريين مع الجيش السيتي خوفا ورهبتا من هجماتهم المتكرره

٧- اقليم خراسان يقع في الجزء الغربي من ايران

س ٥ : الى من تنسب هذه الاعمال لسته مما يأتي ؟

١- اطلاق تسمية اقليم الجبال على اقليم ماذي

٢- عرفت بلاد عيلام عندهم باسم سوسيانا

٣- اخضعوا العيلاميون تحت سيطرتهم كما قضوا على الدولة الاكديّة عام ٢٢٣٠ ق.م

٤- استطاع افشال جميع محاولات العيلاميين بالاستقلال عن الدولة الاكديّة

٥- فرض سيطرته على العاصمة سوسه ابان فترة حكمه ١١٢٤ - ١١٠٣ ق.م

٦- اول اشارة وردت لعيلام ظهرت في كتاباتهم

٧- ضم عيلام الى امبراطورية بعد ان سيطره على السوس

(٢ درجة)

س ٦ : اكتب اثنا عشر عالما في تاريخ الشرق الادنى مع ذكر مؤلف لكل واحد منهم ؟

مع تمنياتي لكم بالنجاح

المرحلة: الاولى
المادة: حقوق الانسان
الوقت: ثلاث ساعات
نموذج رقم ١



وزارة التعليم العالي والبحث العلمي
جامعة تكريت
كلية الآداب
قسم الآثار

ملاحظة : الاجابة عن اربعة اسئلة فقط لكل سؤال ١٥ درجة

س ١ : املأ الفراغات التالية

- ١ . ان الاعلان العالمي لحقوق الانسان ينفرد عن ماسبقه من وثائق ب-----
- ٢ . تعتبر شريعة حمورابي اول شريعة قانونية انسانية مدونة باللغة-----
- ٣ . اهم ما جاء في الاتفاقية الاوروبية لحقوق الانسان ان نطاق تطبيقها لا يشمل الاوروبيين فقط وانما يشمل-----
- ٤ . هي النظام السياسي الذي تدار بموجبه المسائل العامة بواسطة المواطنين انفسهم مباشرة او بواسطة اجهزة-----
منتخبة.
- ٥ . ابرز مثال للنظام الرئاسي في العالم هو النظام الدستوري في-----

س ٢ : تكلم عن حقوق الانسان في الاسلام؟

س ٣ : يتميز النظام التمثيلي بقيامه على عدة اركان؟ عددها مع الشرح.

س ٤ : من خلال استعراض مواد الاعلان العالمي لحقوق الانسان يتبين بانها تمتاز بعدة مميزات ؟ بين هذه المميزات.

س ٥ : تكلم عن حقوق الانسان في حضارة العراق القديمة

مع اجمل الامنيات بالتوفيق والنجاح

أ.م.د. مهدي خلف جمين
رئيس القسم



م.م قائد مزاحم صالح
مدرس المادة

(10 marks)

Q1//

A: What would archaeologists do before studying a vanished society? (5 marks)

B: Give the meanings in Arabic for the following words:(Only 5) (5 marks)

1- Reconstruction		3- Misled		5- Yield	
2- Boulder		4- Aspects		6- Sense	

Q2//

(10 marks)

A: What does anthropology study? (5 marks)

(5 marks)

B: Give the meanings in Arabic for the following words:(Only 5) (5 marks)

1-Interrelationships		3- Signify		5- Excavate	
2- Jungles		4- Process		6- Evidence	

Q3//

(10 marks)

A: What does a faint depression running across a desert show? (5 marks)

(5 marks)

B: Give the meanings in Arabic for the following words:(Only 5) (5 marks)

1- Locations		3- Psychology		5- Planet	
2- Blurred					

A: What does the archaeologist do?

(10 marks)

(5 marks)

B: Give the meanings in Arabic for the following words: (Only 5) (5 marks)

1- Flint		3- Occupied		5- Define	
2- Clapboard		4- Constructed		6- Traces	

Q5: Give the synonyms for the following words: (Only 10) (10 marks)

1- Evidence		7- Site	
2- Time		8- Jungle	
3- Investigation		9- Value	
4- Record		10- Remains	
5- Viewpoint		11-Excavation	
6- Extinct		12- Concern	

Q6: Choose the correct form of verb:

(10 marks)

1. Ali always _____ his friends. (a. has visited, b. is visiting, c. visits)
2. After she _____ home, she went to bed. (a. had arrived, b. arrive, c. arrived)
3. While they _____ to work, they saw the accident. (a. are going, b. were going, c. go)
4. Salma _____ you later. (a. will call , b. calls , c. is calling)
5. He _____ tea now. (a. drink, b. drank , c. is drinking)

رئيس القسم
أ.م.د. مهدي خلف جمين



مدرس المادة
أ.م.د. ايمان ماهر جليل

المادة: اثار اليونان والرومان
نموذج: (١)
الوقت: ٣ ساعات

جامعة تطريب
الامتحانات النهائية
الدرج الأول
٢٠٢٣-٢٠٢٤

وزارة التعليم العالي والبحث العلمي
جامعة تكريت
كلية الآداب
قسم الآثار

ملاحظة أجب عن خمسة أسئلة فقط لكل سؤال ١٢ درجة

س١ / عرف اربعة مما يأتي:
١- مصر العليا ٢- قرطاجة ٣- معركة مانيزيا ٤- مينوس ٥- الموظفون

س٢ / املاء الفراغات الاتية :
١- كلمة الفينيقيين مستمدة من _____ وتعني اللون الاحمر الارجواني
٢- تقع مدينة طروادة عند مدخل _____
٣- شهدت بلاد اليونان ظهور عدة ممالك _____ و _____ و _____
٤- تقع مدينة اثينا في مقاطعة _____

س٣ / تكلم عن الحياة الدينية الرومانية

س٤ / وضح اصلاحات صولون

س٥ / ماهي طبقات المجتمع الاثيني وضحها بالتفصيل

س٦ / ماهي الاسباب التي كانت وراء انتصار الرومان في الحروب السامنتية

رئيس القسم:

أ.م.د. مهند خلف الشمري



مدرس المادة:
د. تارة قاسم محمد



مُؤَدِّعُ رَقْمِ (١)

ملاحظة / اجب عن اربعة اسئلة فقط

(١٥ درجة)

س١/أ/ ماذا نعني بعملية المسح الاثري؟

ب/ ان عملية المسح الاثري التي اجراها السيد ادامز ارتكزت على قاعدتين اساسيتين ما هما؟

(١٥ درجة)

س٢/ ماهي تخصصات رجال الآثار المشتركون في عملية المسح الاثري؟

(١٥ درجة)

س٣/ لغرض انجاح عملية المسح الاثري يتوجب توفر بعض المستلزمات عددها؟

(١٥ درجة)

س٤/ من الوسائل الجيوفيزيائية هي وسيلة المسح الكهربائي تكلم عنها؟

(١٥ درجة)

س٥/ يعد التحدث مع سكان المنطقة (العمل الحقلي) ذو اهمية كبيرة في جمع المعلومات

حول الاماكن الاثرية تكلم عن ذلك باختصار؟

مع تمنياتي لكم بالنجاح

أ.م. د. مهدي خلف جمين



م.م حميد صالح علاوي

مدرس المادة



المرحلة: الثانية

المادة: العراق في التاريخ القديم

نموذج:

الوقت: ٣ ساعات



ملاحظة الاجابة عن اربعة اسئلة فقط لكل سؤال ١٥ درجة

س ١/

عرف ثلاث فقط :

١- المدونات التاريخية - ٢- الاقوام الامورية - ٣- التنقيبات الاثرية - ٤- الختم الاسطواني

س ٢/ اجب عن ما يأتي

- (أ) يمكن الاستفادة من النقوش والزخارف الموجودة على الاختام لمعرفة الكثير من المعلومات التي تخص العصر الذي وجدت فيه ، بين ذلك.
- (ب) تحدث عن تأثير الخلفية الجغرافية على العامل النفسي لسكان العراق قديماً.
- (ت) اتبع المنقبون طرقاً ووسائل عدة لتحديد الدور الحضاري و الفترة الزمنية التي تعود اليها الاثار المكتشفة وتحديد فترتها بالنسبة الى الوقت الحاضر ، عدد تلك الطرق واشرح واحدة منها.

س ٣/ اجب عن خمسة فقط بكتابة عبارة (صح) عن السؤال الصحيح، و (خطأ) عن السؤال الخطأ مع تصحيح الخطأ إن وجد :

- ١- العصر الشبيه بالكتابي هو العصر الذي شهدت فترته جفاف نسبي وقله في الامطار في شبه الجزيرة () .
- ٢- تميز العصر الحجري - المعدني بفخاره جميل الصنع و متعدد الالوان () .
- ٣- استخدم الختم الاسطواني على نطاق ضيق خاصة بعد اختراع الكتابة () .
- ٤- اللغة السومرية هي اقدم لغة مدونة معروفة حتى الان () .
- ٥- تعد الالواح الطينية المكتشفة في مدينة الوركاء جنوب العراق اقدم محاولات الانسان في تدوين ما يجول بخاطره () .
- ٦- اتسم العراق في فترة عصر فجر السلالات بالقوة والتكاتف ووحدة مركز القوة () .
- ٧- تمثل حدود سومر الجزء الغربي من شمال العراق () .

س ٤/ اجب عن خمسة فراغات فقط :

- ١- يقع العراق في الجزء _____ من قارة اسيا .
- ٢- يمثل _____ اول واقدم الاقوام العراقية القديمة.
- ٣- ابتكر _____ الختم الاسطواني.
- ٤- يقصد بـ _____ الاواني المصنوعة من الطين والمحروقة.
- ٥- ابتدعت الكتابة في العراق حوالي _____ ق.م.
- ٦- في عام _____ تأسست اول دائرة وطنية للآثار في العراق .

س ٥/ عدد اهم الخصائص الحضارية التي تميز بها عصر حمورابي

رئيس القسم:

أ.م.د مهند خلف الشمري

مدرس المادة:

م.م ريزين احمد علي





ملاحظة: الاجابة عن اربعة اسئلة فقط (لكل سؤال 15 درجة).

س1: عرف ماياتي:

- 1 - المسح الاثري 2-الشاحص الهندسي 3-عوامل التلف البيولوجي 4-المساح 5-الاثار المادية

س2: ضع علامة صح او خطأ لكل ماياتي:

- 1- الترميم الخاطيء احد العوامل المسببة لتلف الاثار.
2- ان القلاع الحربية من ابرز انواع المواقع الاثرية.
3- لا تعد عوامل الطبيعة من رياح وامطار من اهم عوامل الكشف عن الاثار.
4- اختيار الموقع الاثري من اهم خطوات الاستعداد للتنقيب.
5- طريقة المربعات المتشابكة من الطرق المهمة في تصنيف الاثار.

س3: املأ الفراغات التالية بما يناسبها:

- 1- تعد و..... و..... و..... ابرز عمليات التوثيق الاثري.
2- ان التطور المستمر الذي يشهده علم الاثار اقتضى ان تكون هنالك عدة انواع من طرق التصنيف منها..... و..... و..... و..... و.....

س4: عدد فقط اهم الوسائل والطرائق التي يمكن بواسطتها تحديد الزمن الذي تعود اليه الاثار.

س5: اكتب تقريراً علمياً عن علاقة علم الاثار بعلم التاريخ وعلم الهندسة.

رئيس القسم

ا.م.د. مهند خلف جمين



مدرس المادة

ا.د. محمود طرس عثمان

(ملاحظة الإجابة عن أربعة أسئلة فقط)

(١٥ درجة)

س ١ : أجب عن فرعين مما يأتي :

- فرع أ : اكتب مما تيسر من سورة الانفطار إلى قوله تعالى (كراماً كاتبين) .
فرع ب : أعط ملخصاً عن كتاب (البيان والتبيين) من حيث المؤلف وموضوعات الكتاب ؟
فرع ج : بين خمس مواضع استعمال علامة التعجب (!) مع التمثيل .

(١٥ درجة)

س ٢ : عدّل كتابة وحركة الجمل والكلمات التالية على وفق دراستك لها .

- ١ - بَلُور ٢ - زاد الطين بَلَّةً ٣ - حَرَمَه من الشيء
٤ - نُضوج الثمر
٥ - كوكب عطارد ٦ - ما علاقتكُ بمحمد ٧ - إملاء الشواغر
٨ - أخذ الشيء عَنوةً
٩ - أصيبَ محمد بالثُّخمة ١٠ - حاز محمد على الجائزة

(١٥ درجة)

س ٣ : أجب عن أحد الفرعين :

- ١ - أكتب خمسة أبيات من معلقة الشاعر طرفة بن العبد .
٢ - أكتب خمسة أبيات من قصيدة الشاعر لسان الدين الخطيب .

(١٥ درجة)

س ٤ : أجب عن فرعين مما يأتي :

- أ - عرّف الجملة الإسمية ، ثم بين أهم أركانها ، مع التمثيل والضبط بالحركات ؟
ب - عرّف التاء المربوطة ، ثم بين المواضع التي تأتي بها مع التمثيل ؟
ج - أكتب نقطتين تجعلنا نميّز بين حرف الضاد وحرف الظاء .

(١٥ درجة)

س ٥ : ميّز الكلمة الصحيحة من المرادفات التالية :

- الظلماء/الضلماء ، ضحكة/ضحكة ، القضية/القضية ، يقضة/يقضة ، موظوع/موضوع ،
النظافة/النضافة ، الوظيفة/الوظيفة ، النظام/النظام ، ضفدع/ظفدع ، الضالمين/الظالمين

مع تمنياتنا لكم بالنجاح



رئيس القسم
أ.م.د. مهند خلف الشمري

مدرس المادة
د. نايف عبدالله محمود



(ملاحظة : الاجابة عن جميع الاسئلة لكل سؤال ١٥ درجة)

س ١ : عدد ابرز الخرائط التي يتعامل معها الباحث الاثري؟

س ٢ : وضح كيفية رسم مقياس الرسم ؟

س ٣ : ضع كلمة (صح) او (خطأ) امام العبارات التالية لخمس فقط:

١. يعد علم المساحة ذو اهمية كبرى خاصة مع تعدد تطبيقاته وتطورها.
٢. عملية التوقيع هي نقل المعالم الموجودة في الطبيعة الى الخارطة.
٣. مقياس الرسم المباشر يعد من ابسط الانواع اذ تذكر فيه وحدة القياس على الخرائط.
٤. الزخارف المعمارية كثيرة الظهور في المباني ذات الاهمية.
٥. الادوات الحجرية تشمل (الالات والادوات) التي تعود للفترات الزمنية الحديثة.
٦. تتكون البوصلة من ابرة مغناطيسية وقرص دائري وعلامة تسديد فقط.

س ٤ : املأ الفراغات التالية بما يناسبها لخمس فقط.

١. ينقسم العمل المساحي الى و
٢. توجد ثلاث انظمة رئيسية للتعبير عن الزاوية هي و و
٣. كلما كبر مقام النسبة المتمثلة للمقياس حصلنا على شكل
٤. عند رسم المباني الكبيرة بالرسم المجسم يدخل عنصري و
٥. هو نظام قياس متعارف عليه ومقبول في جميع الدول.
٦. تنقسم المساحة الى ثلاث قياسات رئيسية هي و و

مع تمنياتي لكم بالتوفيق

رئيس القسم: (٢٠٢٣) د. محمد حلق



مدرس المادة: م.م. وائل عبد الرزاق عبد الرحمن

م.م. ارشد عيسى خضر

س ١: عرف خمسة تعاريف فقط؟
١- الورق البردي ٢- ألياف صفراء ٣- الورق ٤- الفرش الحيوانية ٥- السيطرة
على الحشرات ٦- الرق.
درجة ١٥

س ٢: اجب عن أحد الفرعين؟
أ- كيف معالجة أوراق الرق الهشة المتقصفة؟
ب- تكلم عن المخطوطات بصورة عامة؟
درجة ١٥

س ٣: أملأ خمسة فراغات فقط؟
١- تؤخذ الألياف بعد تنظيفها وتنقيتها ليوم واحد.
٢- عندما تكون الكتابة بواسطة تكون المعالجة غير معقدة.
٣- تنظيف الأغلفة من الاوساخ بواسطة قطعة شاش مع أو
٤- تثبيت الألوان للغلاف بواسطة استعمال صغيرة والمحلول المستعمل
هو paraloid.

٥- احسن طريقة للمحافظة على الكتاب هي في الهواء المحيط.
٦- عندما تصبح الاوراق ضعيفة نتيجة وجود مادة التي تسبب تأثير
الحشرات أو الفطريات.

س ٤: اجب عن أحد الفرعين؟

أ- عدد مراحل صناعة الورق يدوية؟

ب- تكلم عن الذهب من عياراته الى صيانتته وما درسته عنه؟

رئيس القسم:

د. م. ا. مهند الشمري



مدرس المادة:
د. م. ا. د. عقاب عوض الرفاعي



المرحلة: الاولى

المادة: حاسبات

الوقت ثلاث ساعات

نموذج (A)

ملاحظة: الإجابة عن خمسة اسئلة

س١:- اختر الاجابة الصحيحة. ١٠ درجة

- أ- تنقسم مكونات الحاسبة الى نوعين رئيسيين هما
 ١- hardware & software ٢- كارت وير وسوفتوير ٣- نورث وير و دورت وير
 ب- يحتوي الماوس على
 ١- ٣ ازرار ٢- ٥ ازرار ٣- ١ ازرار
 ج- يستوعب عدد غير محدود من العناصر ويمكن خزن في داخله البرامج والصور والخ
 ١- الملف ٢- المجلد ٣- الهارد
 د- تعتبر لوحة النظام (لوحة الام)
 ١- سوفت وير ٢- هارد وير ٣- كلاهما
 هـ- المكونات المادية للحاسبة هي
 ١- وحدة الادخال فقط ٢- وحدة الاخراج فقط ٣- وحدات الادخال والاخراج

س٢:- ضع علامة صح او خطأ. ١٠ درجة

- ١- تعتبر عملية حذف مجلد او ملف او صورة وانتقالها الى سلة المهملات..حذف نهائي؟
 ٢- يعتبر ال screen saver هي وحدة التحكم الرئيسية لتغير خلفية الشاشة وذلك باختيار الصورة المناسبة؟
 ٣- عندما نحذف ملف او مجلد بدون ذهاب الى سلة المهملات يعتبر هذا النوع حذف قابل للاسترجاع؟
 ٤- يستوعب الملف عدد غير محدود من العناصر ويمكن خزن في داخله البرامج والصور والخ؟
 ٥- ينقسم الكيبورد الى ٥ اجزاء اساسية؟

س٣:- املأ الفراغات التالية (مدخل input او مخرج output او كلاهما 2 in 1). ١٠ درجة

- ١- تصنف الشاشة العادية _____
 ٢- تصنف السماعات _____
 ٣- يصنف الماوس _____
 ٤- يصنف الكيبورد _____
 ٥- تصنف الشاشات اللمس الذكية _____
 ٦- تصنف الطابعة العادية _____
 ٧- تصنف الطابعة المتعددة الاستخدامات _____
 ٨- يصنف المايك _____
 ٩- يصنف القرص المرن _____
 ١٠- يصنف جهاز الطاقة ups _____

س٤:- تنقسم مكونات الحاسبة الى نوعين رئيسيين : عددهما وشرح كل نوع مع ذكر الامثلة. ١٠ درجة

س٥:- عدد انواع وحدة التخزين. ١٠ درجة

س٦:- تنقسم لوحة المفاتيح الى عدة اجزاء : عدد انواع المفاتيح. ١٠ درجة

رئيس القسم

أ.م.د مهند خلف



مدرس المادة

م.م. محمد شهاب احمد