

نموذج (١)

المرحلة: الدراسات العليا: الدكتوراة

المادة: اختيارية (الاستيطان الحضري والريفي)

الوقت: ٣ ساعات



جامعة تكريت
امتحانات الكورس الثاني
٢٠٢٣ - ٢٠٢٤

وزارة التعليم العالي والبحث العلمي

جامعة تكريت

كلية الآداب

قسم الجغرافية التطبيقية

29-05-2023

اللجنة الامتحانية

س٣ : نقد نشأت فكرة إقليم المدينة على أساس العلاقة المتبادلة بين الريف والحضر وتباينها من عصر لآخر وبشكل خاص فيما يتعلق بالانتشار الحضري والذي على أساسه ارتبط الريف مع المدينة بعلاقات ريفية حضرية . وضح ذلك .

س٤ : تكلم عن التحولات الريفية الحضرية التي من شأنها ان تحد من الفرق الكبير بين الريف والحضر ضمن إطار التكامل الريفي والحضري وتفعيل دور التنمية المستدامة .

س٥ : ضمن مفهوم التطور الحاصل في المجتمعات الريفية الحضرية ، تكلم عن العلاقات الريفية الحضرية ومدى ارتباطها بمستويات الفقر وماهي العوامل التي تؤخذ بنظر الاعتبار في تحديد موضوع العلاقة بين الريف والحضر . مبينا بعد ذلك وجهة نظرك في هذا الموضوع .

ملاحظة: الاجابة على جميع الاسئلة لكل سؤال ١٤ درجة

تمنياتي لكم بالنجاح والموفقية



رئيس القسم

م.د. أوس علي محمد

مدرس المادة

أ.د. منهل عبدالله حمادي



س ١: اختيار من متعدد .

١. تبدأ دراسة الاستيطان الريفي من الخلية السكنية الصغيرة مروراً بالوحدات السكنية المشكلة للقرية وانتهاءً _____ . (أ. بالأقليم الوظيفي ب. بالأقليم الحضري ج. بالأقليم الريفي)
٢. تعد _____ من أبسط أنواع المساكن وأكثرها شيوعاً في بيئة الأهوار والمستنقعات . (أ. الصرائف ب. بيوت الطين ج. بيوت الأخشاب)
٣. هناك عوامل طبيعية لا تشجع على التكتل والتجمع البشري بل تدفع السكان إلى العيش في مستوطنات صغيرة ومنعزلة من أبرزها _____ . (أ. قلة الموارد المائية ب. قلة الموارد البشرية ج. قلة الامكانيات الاقتصادية)
٤. لقد اوجد هيليس من دراسة اجراها عن الولايات المتحدة بأن ٤٠% من ضواحي الولايات المتحدة هي _____ . (أ. ضواحي تجارية ب. ضواحي صناعية ج. ضواحي التوابع)
٥. تعرف المستوطنة الصغيرة الطبقة بأسم _____ . (أ. كلاوسن ب. هاملت ج. قرية)
٦. يطلق على سكان الحضر الذين يقطنون في المناطق الهامشية أي في العشوائيات مصطلح _____ . (أ. الفقر المالي ب. الفقر الريفي ج. الفقر الحضري)
٧. من أجل تحقيق تنمية ريفية حضرية يجب ان يكون هناك _____ للمستوطنات البشرية . (أ. توزيع بيئي متكامل ب. توزيع اقليمي متوازن ج. توزيع عادل للثروات)

س ٢: أجب بصح او خطأ ثم صحح الخطأ ان وجد لكل مما يأتي .

١. يرتبط تصميم المسكن الريفي بالوظيفة الاقتصادية للعائلة من حيث المساحة .
٢. يؤدي ارتفاع درجات الحرارة إلى قلة احجام المستوطنات الريفية .
٣. لقد اكد علماء الاجتماع ان المستوطنة الريفية هي وحدة اقتصادية قبل ان تكون وحدة سكنية.
٤. يلعب عامل القرب من المراكز الحضرية دوراً كبيراً في حجوم المستوطنات الريفية .
٥. تتصف الروابط بين المستوطنات الريفية والحضرية بالاجابية .
٦. يحدث التحضر في البلدان النامية بطريقة نوعية أكثر من كونه طريقة كمية .
٧. يشترط تحقيق التوازن الريفي الحضري عملية تضيق الفجوة بين الريف والحضر .



الدرجة	السؤال	ت
١٤ درجة	١٤	س ١
١٤ درجة	١٤	س ٢
١٤ درجة	١٤	س ٣
١٤ درجة	١٤	س ٤
١٤ درجة	١٤	س ٥

تمنياتي لكم بالنجاح

رئيس القسم

م.د. أوس علي محمد



مدرس المادة

أ.م.د. سعدي عبدالله أحمد



(١٠ درجة)

س/١: عرف خمسا ما يأتي:

البنية ، الرصيف العربي النوبي ، اللترتة ، خطوط الكنتور ، الصخور الجوفية ، الكثافة التصريفية

(١٠ درجة)

س/٢: املا خمسا من الفراغات التالية :

١- يرتبط نظام التصريف التكميمي في المناطق التي يكون بنائها-----.

٢- متون الكفاف هي-----.

٣- تقسم نسجة التربة الى ثلاث اقسام رئيسة هي ----- و----- و-----.

٤- قانون عدم التماثل الطبوغرافي هو ----- .

٥- تقسم الصخور المتحولة الى ----- و----- .

٦- يحد الصفيحة العربية من الغرب ----- ومن الجنوب الشرقي ----- يطلق عليه ----- .

(١٠ درجة)

س/٣: صحح خمسا مما يأتي

١- يكون نظام التصريف المتوازي في مناطق الفوهات البركانية.

٢- يحتوي نطاق الطيات العالية على نطاق الغرز فقط.

٣- تكون الصخور النارية ذات نسيج خشن عندما يتم تبريدها بسرعة.

٤- يتم استخراج مؤشر معامل انعطاف القناة عن طريق المعادلة $s=vl/sl$.

٥- يكون شكل المنعطف ناتج عن قوة الرفع الداخلية .

٦- تطلق تسمية الصدوع على الكسور بدون عملية إزاحة.

(١٠ درجة)

س/٤: ماهو العامل وماهي العملية ، وماهي العمليات الجيومورفولوجية التي تحدث على سطح الارض.

(١٠ درجة)

س/٥: تقسم الترب جيومورفولوجيا الى قسمين وضحهما بالتفصيل .

(٢٠ درجة)

س/٦: ١- ماهي الظواهر الخطية وماهي اسباب نشوئها وماهي دلالاتها وانواعها وفوائدها.

ب- تكلم عن نظم المستجمعات المائية الكبيرة ونظم مياه السيول بالتفصيل .

مع تمنياتي لكم بالنجاح


رئيس القسم

م.د اوس علي محمد

مدرس المادة

م.د محمد نجم خلف





(١٠ درجات)

س١ / وضح بشكل مفصل نظرية فيبر (موقع الصناعة) عام ١٩٠٩ ؟

(١٠ درجات)

س٢ / عدد عوامل التوطن الصناعي الرئيسة وشرح واحدة منها ؟

(١٠ درجات)

س٣ / املأ الفراغات التالية بما يناسبها ؟ (خمس فقط) .

١- من خصائص الصناعة و

٢- للنقل وظيفتين و

٣- من اعتبارات اختيار الموقع الصناعي الامثل و

٤- يقسم رأس المال الى قسمين هما و

٥- الصناعة

٦- تصنف مصادر الطاقة الى مجموعتين رئيسيتين هما و

(١٠ درجات)

س٤ / ضع علامة صح او خطأ امام العبارات التالية . (خمس فقط) .

١- تتدخل الدولة تدخلاً مباشراً في الصناعة عن طريق اقامة الحواجز الجمركية .

٢- ان نصف انتاج العالم من النفط يأتي من الولايات المتحدة والاتحاد السوفيتي سابقاً والسعودية .

٣- اقليم اسكتلندا من الاقاليم الصناعية في المانيا .

٤- من خصائص الصناعة انها اوسع الحرف البشرية انتشاراً .

٥- من وظائف جغرافية الصناعة دراسة العلاقات المتبادلة بين المناطق الصناعية .

٦- من الاقاليم الصناعية في المانيا اقليم السار .

نموذج ١

المرحلة : الرابعة

المادة : الجغرافية الصناعية

الوقت : ٣ ساعات

كلية الآداب قسم الجغرافية التطبيقية

29-05-2024

اللجنة الامتحانية



جامعة طبريت

الامتحانات النهائية ٢٠٢٣ - ٢٠٢٤

الدور الأول

وزارة التعليم العالي والبحث العلمي

جامعة تكريت

كلية الآداب

قسم الجغرافية التطبيقية

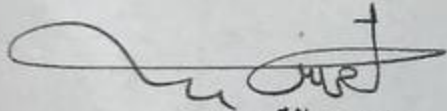
كلية الآداب

جامعة تكريت

س٥ / عرف النفط ثم اذكر مراحل استخراجه ، وما هي عمليات المسح التي تتم لإستخراج النفط ؟
(١٠ درجات)

س٦ / عدد الاقاليم الصناعية في بريطانيا (المملكة المتحدة) ثم اشرح اقليم لانكشاير؟
(١٠ درجات)

مع تمنياتي لكم بالنجاح والموفقية


رئيس القسم

م.د. أوس علي محمد


مدرس المادة

م. فاتن سعدون عبود



نموذج 2
المرحلة: الرابعة

المادة: English

الوقت: ثلاث ساعات

كلية الآداب قسم الجغرافية التطبيقية

26-06-2024

(15 minutes only)



جامعة تكريت
الامتحانات النهائية
2023-2024

رد الدور الثاني

وزارة التعليم العالي والبحث العلمي

جامعة تكريت

كلية الآداب

قسم الجغرافية التطبيقية

Q1\\ Put the following words into correct sentences:

(12 marks)

1. Now 2. Under 3. Before 4. About 5. After

Q2\\ Do as required:

1. They are playing football.

- A. Negate the sentence
B. Make it present simple.
C. Make it a question.
D. Make it past continuous.

(12 marks)

Q3\\ Meaning and opposite:

1. شجاع 2. جميل 3. ذكي

(12 marks)

Q4\\ Fill in the blanks (have, has):

1. I..... car.
2. You..... a dog.
3. He..... small cat.
4. It..... a blue eye.
5. The..... a lorry.

(12 marks)

Q5\\ T. F.

1. Are you work her?.
2. Have you seen a lion before?.
3. What do you reading?.

(12 marks)

Q6\\ Choose the correct answer to complete the following sentences: (12 marks)


1. If you.....water, it
2. If you study, you.....pass.
3. If he studied, you.....pass.

رئيس القسم

د. أوسا علي محمد

مدرس المادة

د. هادي صالح



الدرجة	الاسئلة	ت
١٢	<p>اختر الاجابة الصحيحة لكلا مما يأتي:</p> <p>١- يعرف بانه مساحة من الارض يتم تحديدها وفقا لمعايير قياسية متجانسة هو.....؟ (أ- المنطقة ب- الجبال ج- <u>الاقليم</u> د- الفضاء)</p> <p>٢- اول من جعل الخارطة جزء من النصف الجغرافي.....؟ (أ- <u>هيكتيوس</u> ب- براهما غوبنا ج- طاليس د- راتزل)</p> <p>٣- حدد العرب منازل القمر وعددها.....؟ (أ- ٢٤ منزلا ب- <u>٢٨ منزلا</u> ج- ٣٠ منزلا د- ٣٢ منزلا).</p> <p>٤- قدر اراتوسشين محيط الكرة الارضية ب.....؟ (أ- ٦٦,٢٦٠ ميل ب- <u>٢٦,٢٦٠ ميل</u> ج- ٢٥٠٠ د- ٢٦٠٠٠ متر)</p> <p>٥- اهتم البتاني بالعلوم الرياضية وادخل بعض القوانين الجديدة في.....؟ (أ- الهندسة ب- الجيولوجيا ج- <u>حساب المثلثات</u> د- المساحة)</p> <p>٦- من مؤلفات البيروني هي.....؟ (أ- <u>القانون المسعودي</u> ب- المسالك والممالك ج- تقويم البلدان د- التنبيه والاشراف)</p>	١س
١٢	<p>ضع كلمة (صح) امام العبارة الصحيحة وكلمة (خطأ) امام العبارة الخاطئة لما يأتي:</p> <p>١- ان عملية انشاء المراصد ادت الى ضبط المواقع الفلكية؟</p> <p>٢- ابن سعيد الغرناطي امتازت كتاباته بالتطبيق وقدم معلومات عن بعض الاقطار الاوربية بشكل طريف؟</p> <p>٣- يعد العذري الدلائي اول من وصف طريقة الري الحوضي وميزها عن طريقة الري الدائم؟</p> <p>٤- أكد بليبي على استخدام الاسلوب التطبيقي للجغرافية البشرية في دراسته لطبيعة السواحل؟</p> <p>٥- الكابتن كوك اول من عبر الدائرة القطبية الجنوبية سنة ١٤٧٠م؟</p> <p>٦- من اهم مؤلفات ابن ماجد هو كتاب الفوائد في اصول علم البحر والقواعد؟</p>	٢س
١٢	<p>اجب عن فرعين فقط؟</p> <p>أ- ماهو تفسير الفكر الروماني للمظاهر الطبيعية الاتية؟ (١- المد والجزر ٢- ظاهرة الزلازل)</p> <p>ب- ماهو الاضطراب؟</p> <p>ج- اشرح الافق الجغرافي في الحضارة المصرية؟</p>	٣س

نموذج رقم (١)

المرحلة:الرابعة

المادة:مشكلات بيئية

الوقت :ثلاث ساعات

التاريخ: ٢٠٢٤/٥/٢٧



جامعة تدمر

وزارة التعليم العالي والبحث العلمي

جامعة تدمر

كلية الآداب

قسم الجغرافية التطبيقية

جامعة تدمر

قسم الجغرافية التطبيقية

الجنة الامتحانية

اسئلة الامتحانات النهائية (الدور الاول)

٢٠٢٣-٢٠٢٤



الدرجة	الاسئلة	ت
١٠	١- الاحساس الحراري ٢- التصحر ٣- التنمية المستدامة ٤- صيانة الموارد ٥- الرعي الجائر	١س عرف ما يأتي :
١٥	١- من اهم الدورات التي تحدث ضمن الغلاف الجوي هي : (أ- دورة المياه في الطبيعة ب- دورة الاوكسجين ج- دورة الرياح) ٢- يعد من اخطر انواع التصحر : (أ- تملح التربة ب- ازالة الغطاء الشجري ج- الزحف العمراني) ٣- من اهم المردودات السلبية على الموارد البحرية هي تدمير الشعاب المرجانية: (أ- صح ب- خطأ) ٤- الاتجاه الحيادي هو النظرة الى الحياة البرية بالمفهوم العملي للربحية : (أ- صح ب- خطأ) ٥- من اثار المطر الحمضي على البيئة والموارد الطبيعية هو : (أ- اثره على المياه الجوفية ب- اثره على التربة والنبات ج- كلاهما)	٢س أختر الاجابة الصحيحة لما يلي :
١٥	ضع علامة (صح) امام العبارة الصحيحة وعلامة (خطأ) امام العبارة الخاطئة ثم صحح الخطأ ان وجد؟ ١- التلوث الصناعي يقصد به ما تصرفه معامل تحلية مياه البحر ومحطات توليد الطاقة المقامة على السواحل . ٢- يعتبر غاز ثاني اوكسيد الكربون من اهم غازات الصوبة . ٣- تمثل التربة احد اهم الموارد الزراعية الغير متجددة . ٤- تعتبر سوء ادارة الري وموارد المياه من الانشطة البشرية التي تساعد على التصحر . ٥- تعتبر الصابورة هي المياه التي تملأ بها ناقلات البترول صهاريجها اثناء رحلة العودة وهي فارغة .	٣س



ملاحظة: الإجابة عن ست اسئلة على ان يكون س6 من ضمنها

(10 درجة)

س1:- عرف ما يأتي:

1- الاحداثيات الجغرافية 2- تعريف كوين 3- الاجهزة 4- البيانات 5- المساقط

(10 درجة)

س2: املأ الفراغات الآتية

- 1- مرت نظم المعلومات بمراحل تطور وهيو.....و.....و.....و.....و.....
 - 2- ويقصد بها وضع الخطط والنماذج واختيار البرامج المناسبة للوصول إلى أهداف الدراسة المنشودة أي الإجراءات الإدارية اللازمة والمتبعة في تشغيل واستخدام نظم المعلومات الجغرافية.
 - 3- هي المعاني والمفاهيم والحقائق الخام التي تخص ظاهرة معينة دون إجراء أي معالجة لها
 - 4- هي تفاصيل تلك المعاني والمفاهيم والحقائق التي تم التوصل إليها بعد معالجة البيانات.
 - 5- هي برامج تساعد في رسم الخرائط دون ربط المعلومة بالمكان أي أن الظاهرة الجغرافية المرسومة غير مربوطة بالمكان الجغرافي الذي توجد عليه
- س3: ضع علامة صح امام العبارة الصحيحة وعلامة خطأ امام العبارة الخاطئة لما يأتي؟ (10 درجة)

- 1- تعتبر الرموز Symbols من اهم عناصر الخريطة وخاصة في مجال تمثيل خرائط التوزيعات
- 2- تهتم الكارتوجرافيا بقواعد الاخراج الفني للخرائط وتحديد الشكل الانسب لفتح الخريطة Map Legend ومكانه الصحيح وايضا شكل ومكان قياس الرسم وقواعد توجيه الخريطة نحو الشمال الجغرافي الحقيقي وشكل الاطار الخارجي والداخلي للخريطة والموقع الافضل لعنوان الخريطة وهذه القواعد الفنية تعتبر من اهم متطلبات عرض المعلومات الخرائطية في نظم المعلومات الجغرافية.
- 3- يهتم علم الجغرافيا بدراسة مظاهر سطح الأرض و تقوم على أساس الموقع و الموضع و الامتداد. كما تعني الجغرافيا أيضا بدراسة أشكال الأنظمة الموجودة على سطح الأرض و العلاقات الرابطة بين الظواهر المختلفة.
- 4- من المعروف ان المعلومات المكانية تتحدد بواسطة النقط والخطوط والمساحات ويخضع كل عنصر منها الى اساليب فنية خاصة كالسك والحجم والشكل واللون وطريقة الرسم وقواعد التوقيع المكاني بما يتفق مع باقي محتويات الخريطة.
- 5- يقوم ايعاز التصحيح الهندسي ببناء المرئية الفضائية

(10 درجة)

س4: ماهي مكونات نظم المعلومات الجغرافي :- GIS Components عددها مع الشرح

(10 درجة)

س5/ فوائد نظم المعلومات الجغرافية عددها

(10 درجة)

س6/ ماهي الخطوات العملية للتصحيح الهندسي في arc map ؟

(10 درجة)

س7/ ماهي أنواع البيانات في نظم المعلومات الجغرافي ؟

مع تمنياتي لكم بالنجاح

رئيس القسم

م.د. اوس علي محمد

مدرس المادة

أ.م.د. فائق حسن محييد

نموذج ١

المرحلة : الرابعة
المادة : التخطيط الاقليمي



الامتحانات النهائية ٢٠٢٣ - ٢٠٢٤

وزارة التعليم العالي والبحث العلمي

جامعة تكريت

كلية الآداب

قسم الجغرافية التطبيقية

الوقت ٣ ساعات

كلية الآداب قسم الجغرافية التطبيقية

13-55-2324

اللجنة الامتحانية

ملاحظة/ الاجابة على اربعة اسئلة فقط

- س١/ أجب بصح أو خطأ لكل مما يأتي ثم صحح الخطأ أينما وجد. (١٥ درجة)
١. يعرف بالد وين التخطيط بأنه مفهوم تنموي ومجموعة من الجهود الواعية والمستمرة تقوم بها حكومة ما من اجل زيادة التقدم
 ٢. يعرف ديكنسون الاقليم بأنه منطقة تتميز عن غيرها بخصائص فريدة من حيث التربة والمناخ والزراعة والانسان وتساهم في توضيح ملامحة.
 ٣. ترتبط نظرية المكان المركزي بأسم الجغرافي الالمانى فون ثونن
 ٤. ظهر التخطيط الاقليمي في بريطانيا قبل الثورة الصناعية.
 ٥. المعنى النقدي للتمويل يقصد به اتاحة الموارد النقدية التي يتم بموجها توفير الموارد الحقيقة التي توجه لتكوين رؤوس الاموال الجديدة.

س٢/ اختر الاجابة الصحيحة لكل مما يأتي: (١٥ درجة)

١. هناك اسباب رئيسة دعت الى الاخذ بأسلوب التخطيط الاقليمي في بريطانيا (٥ ، ٤ ، ٣).
٢. قسمت مناطق التنمية في اقليم اربد الى منطقة تنمية (١٤ ، ١٢ ، ١٠).
٣. تعود نظرية الموقع الزراعي الى العالم (هورد ، لينمان ، فون ثونن)
٤. قسم فاوست انكلترا عام ١٩١٩ الى مقاطعة كأساس للتقسيم الاقليمي (١٦ ، ١٤ ، ١٢)
٥. هناك مشاكل تواجه التخطيط الاقليمي لا بد من تجاوزها والتغلب عليها (٥ ، ٦ ، ٨).

س٣/ املأ الفراغات الآتية بما يناسبها. (١٥ درجة)

١. ان مفهوم الاقليم يتعدد بتعدد الاسس ولكنها تشترك في خصائص .
٢. اهم مميزات التخطيط الاقليمي في المانيا انه بالمقارنة مع فرنسا.
٣. يتخذ نظام التخطيط في هولندا مستويات وهيكل .
٤. تعود طريقة تحليل منطقة السوق الى العالم
٥. هاجر حوالي مليون من السود الأمريكيين وأسره من الجنوب عام ١٩٥٠ - ١٩٧٠.

س٤/ ماهي دوافع التخطيط وضحتها ؟ (١٥ درجة)

س٥/ تكلم عن التجربة البريطانية (الاقليم الجنوبي الشرقي كنموذج للتخطيط الاقليمي ؟ (١٥ درجة)

رئيس القسم

م.د أوس علي محمد



مدرس المادة

أ.د. محمود حمادة صالح

مع تمنياتي بالنجاح والتوفيق

المرحلة : الثالثة

المادة : جغرافية الطاقة



جامعة الزيتونة

الامتحانات النهائية ٢٠٢٣ - ٢٠٢٤

الدور الأول

وزارة التعليم العالي والبحث العلمي

جامعة تكريت

كلية الآداب

قسم الجغرافية التطبيقية



(١٠ درجات)

س١ / عدد انواع الفحم الحجري ، ثم اذكر خصائص اجود انواع الفحم الحجري ؟

(١٠ درجات)

س٢ / املأ الفراغات التالية بما يناسبها ؟ (خمس فقط) .

- ١- من الطرق المستخدمة باستخراج الفحم و
- ٢- الغاز المصاحب
- ٣- مناهج البحث في جغرافية الطاقة تشمل و و
- ٤- من مزايا الطاقة الكهربائية و
- ٥- من حقول الفحم في روسيا و
- ٦- تمتلك اكبر الامكانيات الكهرومائية بين قارات العالم .

(١٠ درجات)

س٣ / ضع علامة صح او خطأ امام العبارات التالية . (خمس فقط) .

- ١- يعد فحم البيتومين اقدم انواع الفحم واطولها عمراً .
- ٢- الموضع هو مساحة كبيرة تتضمن الاراضي التي تحيط بالمدينة .
- ٣- تقع حقول منشوريا للفحم الحجري في الصين .
- ٤- تعتبر الكهرباء مصدراً ثانوياً للطاقة لانها لا تؤخذ من الطبيعة بصورة مباشرة .
- ٥- يعد الفحم اكثر انواع الوقود الاحفوري انتشاراً .
- ٦- تعتبر حقول جبال الأبلش من اهم مناطق انتاج الفحم بالولايات المتحدة .

(١٠ درجات)

س٤ / اذكر معوقات استخدام الطاقة النووية بشكل مفصل ؟

س٥ / اجب عن احد الفرعين :

(١٠ درجات)

أ- صنف مصادر الطاقة مع الشرح بشكل مختصر ؟

(١٠ درجات)

ب- ما هي العوامل التي تؤدي الى ضعف الحرارة الواصلة من الشمس الى الارض ؟

(١٠ درجات)

س٦ / عرف النفط ، ثم وضع نظرية الأصل العضوي للنفط ؟

مع تمنياتي لكم بالنجاح والموفقية

رئيس القسم

مدرس المادة



ملاحظة: الإجابة عن اربع أسئلة فقط

س1:- عرف ما يأتي :
1- الاستشعار عن بعد 2- التشتت 3- الكامرات والتصوير الجوي 4- التصحيح الهندسي 5- موزايك الصورة
(10 درجة)

س2: املأ الفراغات الآتية
(10 درجة)

1) تسمى عمليات المعالجة الأولية بعمليات **المسحافة**..... و **تصويب**..... **الرؤية**

2) تشمل طريقة **البهيمية**.. **المكافية**.. وظائف أخرى لمعالجة الأولية بهدف تحسين المرئية.

3) يمكن تحويل بيانات النطاقات الى **المستقيم**... **TM**

4) ان عمليات التصحيحات نوعين هما **الراديو مترى**... و **الهندسي**...

5) ان طرق التصفية المكانية طريقة **البنية**... **تجهيز**... **للاثر**... وطريقة **الضمان**... **على**... **الملاحة**

6) مفهوم طرق التحسين هو **حذف**... **البؤبؤ**... **المستوية**... **المختص**... **للبيانات**... **ويصل**... **حده**... **المرئية**... **عند**... **قن**
ولذلك... **قيمة**... **للاثر**... **البيانات**

س3: ضع علامة صح امام العبارة الصحيحة وعلامة خطأ امام العبارة الخاطئة لما يأتي ؟ (10 درجة)

1- يعد هذا الاعاز Image Interpreter استقطاع الصور .

2- Spatial Enhancemen يعرف بأنه التحسس النائي.

3- ويستخدم التصحيح الهندسي Geometric Corrections للصور الفضائية، التي بها تشوهات هندسية، نتيجة التغير في سرعة المسح، والتغير في ارتفاع المركبة، التي تحمل أجهزة الاستشعار عن بعد، وسرعتها.

4- Classification يعرف بأنه اعاز بناء المرئية *

5- يعرف (Unsupervised Classification) التصنيف الموجه .

س4/ ما هي مميزات وعيوب مستشعرات الأقمار الصناعية بالمقارنة بمستشعرات الطائرات (10 درجة)

س5/ ماهي الخطوات التي ستتبعها او ستطبقها على مرئية رادارية قبل البدء في تفسيرها البصري ؟ (10 درجة)

مع تمنياتي لكم بالنجاح

رئيس القسم

م.د. اوس علي محمد



مدرس المادة

أ.م.د. فائق حسن محيimid



الدرجة	الاسئلة	رقم السؤال
١٢	تكلم مفصلاً عن التجارة في العراق ؟	س ١
١٢	املأ الفراغات الاتية (اجب عن ستة فقط) ١- من اهم روافد نهر الفرات في العراق والتي تغذيه بالمياه هي و..... و..... ٢- تمثل منطقة السهل الرسوبي من مساحة العراق ؟ ٣- من مشاكل النقل البري في العراق هي..... و..... و..... ٤- يوجد الكبريت في منطقة وهو بثلاث طبقات يتراوح عمقها ما بين الى ٥- من اهم العوامل التي تساعد على التبادل التجاري الداخلي للعراق هي و..... و..... ٦- من مميزات النقل البري في العراق هي و..... و..... ٧- تتضمن دراسة السكان جانبين مهمين هما و.....	س ٢
١٢	علل ما يأتي: (اجب عن ستة فقط) ١- ان اهم ما يميز النقل الجوي هو ارتفاع تكاليفه؟ ٢- احتل القطاع الصناعي في العراق دوراً ريادياً في التنمية؟ ٣- عدم التوازن الطبيعي بين الذكور والاناث في الريف العراقي؟ ٤- يؤدي الجانب السكاني الاثر الفاعل في التنمية الاقتصادية ؟ ٥- ان المنطقة الواقعة بين الكوت والديوانية تتميز بالترتبة الرملية الصرفة؟ ٦- تتميز تربة المنطقة الجبلية والمتموجة بوفرة المادة العضوية ؟ ٧- يكون لون التربة في العراق بصورة عامة رمادي؟	س ٣
١٢	ما هي مقومات الصناعة في العراق ؟ ناقشها بالتفصيل .	س ٤
١٢	ضع كلمة (صح) امام العبارة الصحيحة وكلمة (خطأ) امام العبارة الخطأ ثم صحح الخطأ ايما وجد. ١- تمتد تربة اقليم شط العرب والسهل الساحلي عرضياً بمحاذاة شط القرنة بين شط العرب والخليج العربي. ٢- يتوزع سكان المنطقة الجبلية بمساحة ٢٥/١ من مساحة العراق العامة. ٣- يمثل النمط المنتشر للسكان في المنطقة الجبلية؟ ٤- تمتد المرحلة الثانية للصناعة ما بين (١٩٢١-١٩٥٠). ٥- تتمثل المرحلة الرابعة لتطور الصناعة بالمدة من (١٩٥٨-١٩٧٠). ٦- من مميزات النقل البري في العراق هي محدودية خطوط السكك الحديدية وقصر طولها .	س ٥

مع غنياتنا لكم بالموافقة والنجاح

رئيس القسم

م. د. أوس علي محمد

مدرس المادة

م. م. ابراهيم حسين علي



ت	الاسئلة	الاجابة
١س	عرف مايتي :- (١- الجغرافية السياحية ٢- الاعلام السياحي ٣- اقليم انقرة ٤- السياحة الداخلية) ٥- السياحة العلاجية ٦- السياحة الرياضية)	١س
٢س	تكلم عن اسبانيا ومواردها السياحية الطبيعية في ازدهار السياحة .	٢س
٣س	اختر الاجابة الصحيحة من بين الاقواس بما يناسب السؤال مما يأتي :- ١- اقليم التورماندي فهو من الاقاليم السياحية الدولية . (١- ايطاليا ، ب - اسبانيا ، ج - فرنسا ، د - تركيا) ٢- يبلغ عدد سكان تركيا لسنة ١٩٩٠ اكثر من . (١- ٥٤ مليون نسمة ، ب - ٥٦ مليون نسمة ، ج - ٥٨ مليون نسمة ، د - ٥٩ مليون نسمة) ٣- قامت وزارة السياحة اللبنانية بتقسيم البلاد الى ثلاث مناطق سياحية واحدة من هذه المناطق هي . (١- اقليم بيروت ، ب - اقليم البقاع ، ج - اقليم الساحلي ، د- المنطقة الداخلية) ٤- يمكن تقسيم الموارد السياحية الى قسمين . (ا- تضاريس ومناخ ، ب - بشري واقتصادي ، ج - طبيعي واقتصادي ، د - طبيعي وبشري) ٥- تعتبر اسبانيا بلادا . (١- جبلية ، ب - مائية ، ج - زراعية ، د - انتاجية) ٢- يبلغ عدد سكان لبنان لسنة ١٩٩٠ اكثر من . (١- ٤،٧ مليون نسمة ، ب - ٤،٦ مليون نسمة ، ج - ٤،٥ مليون نسمة ، د - ٤،٤ مليون نسمة)	٣س
٤س	ناقش مفصلا الاسباب والتدابير التي وقفت وساهمت وراء تطور النشاط السياحي في لبنان عدد هذه التطورات السياحية .	٤س
٥س	ضع علامة (صح) امام العبارة الصحيحة وعلامة (خطأ) امام العبارة الخاطئة ، ثم صحح العبارة الخاطئة ايضا وجات : ١- يعتبر المناخ من اهم العوامل التي تقوم عليها الحركة السياحية بحيث ترتبط بها ارتباطا وثيقا . ٢- تصنف السياحة حسب مدة الإقامة الى السياحة الخارجية والسياحة الداخلية . ٣- يبلغ عدد سكان اسبانيا (٥ ، ٢٤) مليون نسمة عام ١٩٩٠ . ٤- الجغرافية السياحية ليس لها ارتباطات وثيقة ومتعددة الجوانب مع كل من التاريخ والقطاعات الاقتصادية . ٥ - تسيطر الجبال على اكثر من ربع مساحة اليونان واهمها جبال البند في وسط البلاد . ٦ - تكثس مياه الشواطئ اللبنانية أهمية سياحية كبيرة لانها نظيفة وذات تيارات مائية قوية واماهاا الخطرة .	٥س
٦س	عدد الاقاليم السياحية في سويسرا ثم تكلم عن احد هذه الاقاليم السياحية .	٦س

مع امتياني للجميع بالنجاح

رئيس القسم

م. د. اوس علي محمد
٢٠٢٤/٥/١

مدرس المادة

م. م. باسم حلو محمد
٢٠٢٤/٥/١٨

نموذج ١

المرحلة : الثالثة

المادة : جغرافية المدن

الوقت : ثلاث ساعات

الوقت : ثلث ساعة

19-05-2024

الاستحداث النهائية ٢٠٢٣ - ٢٠٢٤
الدور الاول



جامعة كركوت

الاستحداث النهائية ٢٠٢٣ - ٢٠٢٤

الدور الاول

وزارة التعليم العالي والبحث العلمي

جامعة تكريت

كلية الآداب

قسم الجغرافية التطبيقية

كلية الآداب

قسم الجغرافية التطبيقية


اللجنة الامتحانية

الدرجة	الاسم	ت
١٠	٣-المواقع البورية ١- الفترة المورفولوجية	١ س
١٠	٢- الهيمنة الحضرية ٥- التصنيف النوعي	٢ س
١٠	١- جغرافية المدن ٤- التسلط والتدرج	٣ س
١٠	١- الاملا الفراغات لخمس مما يأتي : هو تطور الحياة الحضرية من خلال سلسلة من التفاعلات المتبادلة بين مجموعة من العوامل وتفاعل النشاطات البشرية. ٢- ان توزيع استعمالات الارض داخل المدينة والتي تظهره خرائط خاصة بها وتجاور بعضها البعض من التجاذب او التنافر يسمى التركيب او البنية ... او البنية ... ٣- لقد وجد المخططون والمسؤولون أن القطاع الركن ... الركن ... بناء الاحياء الجديدة . ٤- تركز بعض الوظائف في القطاع المركزي يؤدي الى جذب وظائف اخرى لاحقة الى هذا القطاع يسمى البنية ... البنية ... البنية ... ٥- اعتمد الباحث صالح فليح حسن عدة معايير في تحديد الاقاليم السكنية في مدينة بغداد الكبرى وهي البنية ... البنية ... البنية ... ٦- تقسم الدراسات التي كتبت عن النقل الحضري الى نوعين رئيسيين هما..... و.....	٣ س
١٠	أجب عن فرعين فقط : (أ) ماهي طرق البحث في جغرافية المدن . (ب) جوهر نظرية الدوائر المتركرة والانتقادات الموجه لها. (ج) طرق تحديد حركة المرور في المدينة .	٤ س
١٠	(أ) وضح العلاقات السكانية التي تربط المدينة بإقليمها . (ب) اذا كان عدد الایدی العامة في الصناعة في مدينة معينة (٦٠٠٠٠) عامل وكان عدد الایدی العامة في الصناعة في القطر (٨٠٠٠٠) عامل، وعدد سكان تلك المدينة (١٠٠٠٠٠٠) مليون نسمة وعدد سكان القطر (٢٠٠٠٠٠٠٠) عشرون مليون نسمة ، فما عدد الایدی العامة في الصناعة الاساسية وغير الاساسية .	٥ س

اقلب الورقة

المرحلة: الثالثة

المادة: جغرافية الزراعة



جمهورية العراق
وزارة التعليم العالي والبحث العلمي

جامعة تكريت
كلية الآداب
قسم الجغرافية التطبيقية

اسئلة الامتحان النهائي للعام الدراسي (2024-2023)

10	املأ الفراغات الاتية بما يناسبها:- 1-تتمثل مجموعة الزراع في جماعة _____ و _____ 2-من مشاكل التربة الرئيسية هي _____ و _____ 3-يقوم مبدأ تخطيط الانتاج الزراعي على قاعدتين هما _____ و _____ 4-تقسم الفواكه وفقاً للظروف المناخية الى _____ و _____ 5-فناك صنفان من الابقار بالنسبة لنوع منتجاتها هي _____ و _____	3س
10	من المميزات التي زادت من اهمية الجغرافية الزراعية ظهور عوامل عدة بنقاط.	4س
10	ماهي الالات المترتبة على كثافة السكان وضغطها الشديد على الاراضي الزراعية.	5س
10	صنف الالياف حسب مصادر ها الرئيسية.ثم تكلم عنها باختصار.	6س
10	ماهي الخصائص الرئيسية لمنتجات الخضار. عددها ثم تكلم عنها بإيجاز	7س

..مع امنياتي لكم بالموفقية والنجاح..

م.د. اوس علي محمد
رئيس القسم



ا.د. ظافر ابراهيم طه
مدرس المادة

المرحلة: الثالثة

المادة: جغرافية الزراعة

الوقت: ثلاث ساعات

الوقت: 21-05-2024

الوقت: 21-05-2024

اسئلة الامتحان النهائي للعام الدراسي (2023-2024)



المواضيع

جمهورية العراق

وزارة التعليم العالي والبحث العلمي

جامعة تكريت

كلية الآداب

قسم الجغرافية التطبيقية

الدرجة

الاسئلة

(ملاحظة:- الاجابة عن ستة اسئلة فقط)

10

ت

اختر الاجابة الصحيحة مما يأتي:-

س1

1- ان نشاط الانسان وعلاقته بالجغرافية يقع ضمن مايعرف بالجغرافية

(أ- البشرية، ب- الطبيعية، ج- العامة).

2- تشمل دراسة _____ دراسة علم النبات والحيوان

(أ- البايولوجي، ب- الجيولوجي، ج- الجيومورفولوجي).

3- تحتل كوبا المرتبة _____ في انتاج سكر القصب.

(أ- الاولى ، ب- الثانية ، ج- الثالثة).

4- يعد بنجر السكر من محاصيل العائلة _____.

(أ- الجزرية، ب- النجيلية، ج- البقولية).

5- تحتل _____ المرتبة الرابعة في انتاج الشاي في العالم.

(أ- الهند، ب- باكستان، ج- سيلان).

10

ضع كلمة صح او خطأ امام العبارات الاتية ثم صحح الخطأ ايما وجد:-

س2

1- ان رسم الخرائط يمكن اعتباره علماً مرتبطاً بالجغرافية الطبيعية والبشرية.

2-تعد الجغرافية الزراعية احد فروع الجغرافية الاقتصادية.

3-عندما تكون الارض مستوية كلياً يصعب تصريف المياه الزائدة عن حاجة النبات.

4- من الخصائص الرئيسة التي يمتاز بها الانتاج الزراعي هو ارتباطه بالزمن.

5- يحتاج القمح الى درجات حرارة لا يقل معلها عن 20 درجة مئوية.



جامعة تكريت

الامتحانات النهائية ٢٠٢٣-٢٠٢٤

الدور الاول

١١/١١/٢٠٢٣

١٢/١١/٢٠٢٣

١٣/١١/٢٠٢٣

١٤/١١/٢٠٢٣

الاسئلة

الدرجة

١٠

ت

س٦

اجب عن فرعين فقط

(١) اختر الاجابة الصحيحة من بين الاقواس لخمس مما يأتي :

١- ان استنتاجات نظرية القطاعات تتعلق بالدرجة الاولى بتحليل.....في المدينة .
(المنطقة التجارية ، المنطقة الصناعية ، المنطقة السكنية)

٢- ان تنقل جماعة من السكان او استثمار من استثمارات الارض في منطقة معينة تسود فيها جماعات او استثمارات تختلف اجتماعيا واقتصاديا يسمى.....

(التسلط ، التركز ، التحدى)

٣-.....تعتبر همزة وصل بين الاقاليم المختلفة وتمتاز بموقع يمنحها تسهيلات تجعل التجارة تفضل ان تمر بها .

(مدن نقط التجمع . مدن القواعد التجارية للظهير ، مدن المستودع)

٤-.....ويطلق عليه بالصنف غير المنتظم أو الشوارع المتتوية العشوائية .

(النمط الشعاعي ، النمط الشطرنجي ، النمط العضوي)

٥-تعتبر مدينة.....من أنواع المدن البورزية .
(بيروت ، صنعاء ، موهوكو)

٦-من أصناف الترفيه في مدينة البصرة.....

(الوحدات النسقية ، المراكز القديمة ، المراكز المحلية)

(ب) محاسن القطاعين الاوسط والخارجي .

(ج) العوامل التي أدت الى تطور حجوم المدن .

مع تمنياتي لكه بالنجاح

رئيس القسم

م . د . أوس علي محمد

مدرس المادة

م . د . سعدي عبدالله أحمد





جامعة أسيوط

وزارة التعليم العالي والبحث العلمي
جامعة تكريت
كلية الآداب
قسم الجغرافية التطبيقية
قسم الجغرافية التطبيقية (الدور الثاني)
الامتحانات النهائية 2023-2024

كلية الآداب
قسم الجغرافية التطبيقية
ملاحظة لكل سؤال (10) درجات

ملاحظة لكل سؤال (10) درجات

1- عرف التصنيف الرقمي ثم عدد أنواعه وشرح واحدة منها؟

2- اختار الإجابة الصحيحة في كل مما يأتي:

1- المدة الزمانية للقمر الصناعي المتوسات هي:

أ- أسبوع ، أسبوعين ، نصف ساعة

ب- الحزمة الحرارية تعتمد على

انعكاس سطح المشع حرارة سطح المشع كلاهما

ج- نموذج الارتفاع الرقمي يسمى

UTM DEM MSS

د- لاندسات هي أحد الأقمار الاصطناعية التابعة الى الأقمار

الأمريكية الأوروبية اليابانية

ه- اللون ماروني ناتج عن دمج مع اللون

الأبيض ، الأصفر ،

3- املا الفراغات التالية: -

أ- عدد دمج اللون الأزرق مع الأخضر ينتج ومع الأسود ينتج

ب- من اهم برمجيات تقنيات الاستشعار ونظم المعلومات

ج- من أنواع الأقمار الاصطناعية خاص بالطقس هي و.....

د- الألوان الغامقة تسجل قيم والفاتحة تسجل قيم

هـ- من اهم تطبيقات الاستشعار عن بعد هي و.....

س 4- قارن بين المرئيات الفضائية والصور الجوية بالتفصيل؟

س 5- في ظل دراستك للموضوع تطبقات الاستشعار عن بعد ماذا تعلمت اكثب مقالا حول ذلك؟

س 6- عدد اهم الأقمار الاصطناعية ثم اشرح واحد منها؟

رئيس القسم
د. اوس علي محمد

مدرس المادة
د. د. احمد عبد الغفور خطاب



نموذج ٤
المرحلة: الاولى - مساعي
المادة: جغرافية العالم القديم

المؤقتة
قسم الجغرافية التطبيقية
كلية الآداب

12-08-2024

اللجنة الامتحانية



جامعة أسيوط
الامتحانات النهائية
الدور الثاني
٢٠٢٤ - ٢٠٢٣

وزارة التعليم العالي والبحث العلمي

جامعة تكريت

كلية الآداب

قسم الجغرافية التطبيقية

قسم الجغرافية التطبيقية
اللجنة الامتحانية

(١٠ درجات)

ملاحظة : الاجابة على جميع الاسئلة والترك ضمني

س ١ : املأ الفراغات بما يناسبها لحمس ما يأتي:

- ١- تتركز صناعة الحديد والصلب في المانيا بمنطقة----- و-----
- ٢- من اهم انهار قارة افريقيا التي تصب في المحيط الهندي هي----- في غرب افريقيا.
- ٣- تتطابق هضبة البرازيل في برونزا مع خليج-----
- ٤- تمتد قارة اسيا من خط طول----- درجة شرقا عند مرتفعات الاورال.
- ٥- من اهم دول انتاج الرز في قارة اسيا هي----- و----- درجة شمالا.
- ٦- تمتد قارة اوربا بين دائرتي عرض----- درجة شمالا.

س ٢ : اذكر السبب لحمسا ما يأتي :

- ١- تتميز قارة اوربا بارتفاع انتاجية الفرد والارض الزراعية.
 - ٢- تعد الاجراء الجنوبية والشرقية من قارة اسيا من اكثر المناطق تركزا بالسكان.
 - ٣- يعد النصف الشمالي من قارة افريقيا اكثر جفافا من نصفها الجنوبي .
 - ٤- تتصف قارة اسيا بافتقارها الى شبكة للنقل البري تربط مناطقها .
 - ٥- قيام الثورة الصناعية في قارة اوربا.
 - ٦- تعد كل من ليبيا والجزائر ونيجريا دولا رئيسة في انتاج النفط في قارة افريقيا .
- س ٣ : وزع جغرافيا لكل ما يأتي:
- ١- الفحم في اوربا ٢- البطاطا في اوربا ٣- صناعة المسوجات في الهند ٤- الشاي في الهند
 - س ٤ : تقسم انهار قارة اسيا الى اربعة مجاميع على اساس مصباتها . بين هذه المجاميع مع ذكر انهار كل مجموعة.
 - س ٥ : اجيب عن فرعين مما يأتي :
 - ١- يتميز القسم الاكبر من قارة اسيا بالجفاف في فصل الشتاء ما عدا بعض المناطق بينها معللا سبب عدم جفافها.
 - ب- تنتشر في قارة اوربا مجموعة من الاقاليم الصناعية . عددها .
 - ج- هناك مجموعة من الانهار الرئيسة في قارة افريقيا . عددها مع اعطاء وصفا جغرافيا لكل فر.

مع دعائي لكم بالنجاح

رئيس القسم: م. د. اوس علي محمد

مدرس المادة: ا. د. همدان عطيه محمد



س ١: املأ الفراغات الآتية بما يناسبها

١. هناك عوامل حددت من قدرة الإنسان على النقل قديما وهي _____ و _____ .
 ٢. يرجع معنى كلمة سفينة الى _____ وهي كلمة بابلية الاصل اما كلمة ملاح فهي _____ .

٣. اول من اكتشف العجلة هم العراقيون القدماء وذلك في _____ ق ١٣٠٠ حيث اكتشف اول نموذج لل عربات من قبل بعلثا ١ كسطور في آثار مدينة كيش البابلية .

٤. تدل وثائق _____ على دخول كل من الحناء والياسمين الى الصين عن طريق التجار العرب وذلك في نحو العام _____ .

٥. في عام _____ انشأ اول خط للتمترو في مدينة لندن يربطها بضمواحيها اما في القاهرة فيعتبر مترو القاهرة المنشأ في عام _____ اول مشروع من هذا القبيل .

س ٢: اجب بصح او خطأ وصحح الخطأ ان وجد لكل مما يأتي .

١. اقدم ظهور للأحلاك هو في العصر الأثوري القديم وذلك في عام (١٣٠٠ - ٩٠٠) ق م .
٢. في مجال النقل الجوي تعتبر شركة (بتسبرك) من أوائل الشركات وقد تأسست سنة ١٩١٤ .
٣. بينت الدراسات ان النقل بالسكك الحديد يعتبر منافسا قويا للطائرات ضمن مسافة تصل (١٥٠) كم .
٤. وحدة القياس المعتمدة لسرعة النقل المائي هي العقدة والتي تعادل ميلا بحريا او ما يعادل ١٨٥٣ مترا في الساعة .

٥. على الرغم من ان القاسم المشترك لخصائص وسائل النقل الحديث هي السرعة والراحة وانخفاض التكاليف الا ان هناك تباين واختلاف في خصائص كل وسيلة .

س ٣: من اهم الحضارات القديمة التي اهتمت بموضوع النقل هي الحضارة الرومانية ، تكلم عن هذه الحضارة بالتفصيل مع ذكر الاشكال والرسوم التوضيحية والارقام التي تدعم اجابتك في هذا السؤال .


س ٤: ماذا نقصد بالتجارة الداخلية والتجارة الخارجية ، وماهي وجهة نظر (آدم سميث) في تحديد الفرق بين هاتين التجاريتين ، معددا بعد ذلك أهم الفروق الفردية بين هاتين التجاريتين .

س ٥: من الشكل رقم (١) استخراج معامل درجة الترابط مع تحليل عملي للنتائج التي توصلت اليها الدراسة .

١١٣

١٢

١٣



(١٥ درجة)

س/١ : اجب عن فرعين مما يأتي:

- ١- ماهي اشكال الحمولة النهريه وضحتها بايجاز
- ٢- من خلال المنحنى الهبسومتري يمكن تمييز عدد من المناسيب ، وضحتها بايجاز .
- ٣- عدد الاشكال الارضية الحتية والترسيبية للمياه الجوفية

(١٠ درجة)

س/٢ اختر الاجابة الصحيحة لما يأتي :


- ١- تنقل الحمولة الريحية التي حجمها بين ٠,١٥ و ٠,٢٥ بطريقة (التعلق ، القفز ، الزحف)
- ٢- من الاشكال الحتية للمياه الجوفية (الاسطح الجيرية ، البحيرات الهلالية ، الجسور الطبيعية)
- ٣- تتكون في مجرى النهر في مرحلة الاشباب ظاهرة (المنعطفات ، الجزر ، الجنادل)
- ٤- يطلق على نمط الصرف الذي يتركز حول نقطة مركزية (مشوش ، مستطيل ، شعاعي)
- ٥- من الاشكال الترسيبية في بيئة المنحدرات (الوديان الجافة ، الاراضي الوعرة ، البجادا)

(١٠ درجة)

س/٣ صحح الخطأ لخمس من العبارات الاتية :

- ١- الحدود الانزلاقية للصفائح تكون امامية او خلفية .
- ٢- يبدأ المنحدر القاري بصورة فجائية من الحافة الخارجية للرصيف المحيطي.
- ٣- شكل المنحدر سببة العامل الباطني .
- ٤- مالمراوح الفيضية الاشكال البيئية الحتية في بيئة المنحدرات .
- ٥- نمط الصرف الشبكي يتكون في المناطق قليلة الانحدار.
- ٦- يستفاد من رسم المقطع الطولي للنهر لمعرفة عمق المياه .





(١٠ درجة)

س/٤ : املا خمس من الفراغات الاتيه بما يناسبها :

- ١ - صحيفة استراليا تقع ضمن الصفائح
- ٢ - الحدود القارية تقع ضمن الحدود
- ٣ - شكل المنحدر يكون سببه
- ٤ - من العوامل التي تساهم في تحديد نوعية التجوية
- ٥ - وادي النهر هو
- ٦ -

٦-

تتكون نتيجة استمرار هطول الامطار الغزيرة التي تعمل على تطوير الجداول الصغيرة من خلال زيادة عمقها .

س/٥ : اجب عما يأتي:

- ١- عدد الصفائح الثانوية في القشرة الارضية .
- ٢- ماهي العوامل المحددة لنوعية ودرجة التجوية .

مع تمنياتي لكم بالنجاح


رئيس القسم

م.د اوس علي محمد




مدرس المادة

م.د محمد نجم خلف

نموذج ٢

المرحلة الاولى - مسائي

المادة: الاستشعار عن بعد

الوقت: ثلاث ساعات



وزارة التعليم العالي والبحث العلمي

جامعة تكريت

كلية الآداب

قسم الجغرافية التطبيقية كلية الآداب الاحصائيات النهائية 2023-2024

قسم الجغرافية التطبيقية (الدور الثاني)

ملاحظة لكل سؤال (10) درجات الامتحانية

جامعة تكريت

1- عرف التصنيف الرقمي ثم عدد أنواعه وشرح واحدة منها؟

2- اختر الإجابة الصحيحة في كل مما يأتي:

1- الدقة الزمانية للقمر الصناعي الميوسات هي:

أسوع، أسوعين ، نصف ساعة

ب- الخزعة الحرارية تعتمد على

انعكاس سطح المشع حرارة سطح المشع كلاهما

ج- نموذج الارتفاع الرقمي يسمى

UTM DEM MSS

د- لاندسات هي أحد الأقمار الاصطناعية التابعة الى الأقمار

الامريكية الاوربية اليابانية

ه- اللون ماروني ناتج عن دمج مع اللون

الأسود، الأبيض ، رصاصي

س3- املا الفراغات التالية: -

1- عند دمج اللون الأزرق مع الأخضر ينتج وجمع الاسود ينتج

ب- من اهم برمجيات تقنيات الاستشعار ونظم المعلومات

ج- من أنواع الأقمار الاصطناعية خاص بالطقس هي

د- الألوان العائمة تسجل قيم والفاحة تسجل قيم

ه- من اهم تطبيقات الاستشعار عن بعد هي

س4- قارن بين المرئيات الفضائية والصور الجوية بالتفصيل؟

س5- في ظل دراستك للموضوع تطبيقات الاستشعار عن بعد ماذا تعلمت اكتب مقالا حول ذلك؟

س6- عدد اهم الأقمار الاصطناعية ثم اشرح واحد منها؟

مدرس المادة

أ. م. د. احمد عبد الغفور خطاب

رئيس القسم

د. اوس علي محمد



المادة: جغرافية التربة

المرحلة: الثانية

الوقت: 3 ساعات

نموذج (2)



جامعة طرابلس
الامتحانات النهائية

2024-2023

(الدور الثاني)

وزارة التعليم العالي والبحث العلمي

جامعة تكريت

كلية الآداب

قسم الجغرافية التطبيقية



الدرجة	الاسئلة	ت																				
5	1- عرف كل مما يأتي :- 1- مقد التربة 2- Soil 3- التملح 4- المواد العضوية الميتة 5- مسامية التربة ب- وضح وفق مثلث الترب نوع التربه تبعا لقيم المجاميع المعدنية :-	1س																				
5	<table border="1"><thead><tr><th>نوع التربة</th><th>غرين %</th><th>طين %</th><th>رمل %</th><th>ت</th></tr></thead><tbody><tr><td></td><td>20</td><td>20</td><td>60</td><td>1</td></tr><tr><td></td><td>50</td><td>35</td><td>15</td><td>2</td></tr><tr><td></td><td>40</td><td>50</td><td>10</td><td>3</td></tr></tbody></table>	نوع التربة	غرين %	طين %	رمل %	ت		20	20	60	1		50	35	15	2		40	50	10	3	
نوع التربة	غرين %	طين %	رمل %	ت																		
	20	20	60	1																		
	50	35	15	2																		
	40	50	10	3																		
5	1- ضع علامة صح امام العبارة الصحيحة وعلامة خطأ امام العبارة الخاطئة وضح الخطا ان وجد :- 1- مرحلة النضج هي اخر مرحلة من عمر التربة ؟ 2- Salic هو افق تتجمع فيه المواد العضوية ؟ 3- ان محتوى التربة من كاربونات الكالسيوم يحدد مدى توفر العناصر الغذائية النباتية ؟ 4- المكونات المعدنية تشكل نسبة 45% من حجم التربة ؟ 5- الصخور المتحولة ناتجة عن جملة من التحويرات على خصائص الصخور الثانوية ؟ ب- ارسم وثيقة الوصف المورفولوجي موضحا فيها كيفية استخراج القيم لكل فئة وكيفية استحصال الصفات العامة ضمن الوثيقة وهي (الخصائص الفيزيائية والكيميائية) ؟	2س																				
5	1- ماهي عمليات تكوين التربة وعوامل تكوين التربة وضح ذلك ؟ ب- عدد اهم الاثار السلبية والايجابية لممارسات الانسان على التربة ؟	3س																				
5	1- صنف الترب حسب النظام الأمريكي لتصنيف الاراضي للعام 1960 ؟ ب- ماهي خصائص التربة ذات النسيج الناعم عددها ؟	4س																				
5	1- وضح بالرسم علاقة علم التربة بالعلوم الأخرى ؟ ب- ماهي التجوية العضوية وماهي اهم المكونات العضوية ؟	5س																				
5	1- ماهي الوظائف التي تقوم بها الاحياء الدقيقة النباتية منها والحيوانية ؟ ب- وضح أهمية دراسة درجة التفاعل (PH) ؟	6س																				

رئيس القسم

م.د أوس علي محمد

مع امنياتي للجميع بالنجاح



مدرس المادة

أ.م.د تغريد خليل محمد جبر المعموري

المرحلة: الاولى
المادة: جغرافية العالم القديم



وزارة التعليم العالي والبحث العلمي
جامعة تكريت
كلية الاداب
قسم الجغرافية التطبيقية

٢٠٢٣ - ٢٠٢٤



ملاحظة : الاجابة على جميع الاسئلة والترك ضمني

(١٠ درجات)

س١: املأ الفراغات بما يناسبها خمس مما يأتي:

- ١- لايفصل قارة اسيا عن قارة امريكا الشمالية سوى مضيق -----.
- ٢- تنتشر زراعة القطن في الصين في ----- و -----.
- ٣- ينتمي سكان قارة اوربا الى ثلاث مجموعات بشرية هي ----- و ----- و -----.
- ٤- تتركز صناعة الحديد والصلب في المانيا في منطقة -----.
- ٥- ان هضبة البرازيل تتطابق في بروزها مع خليج ----- في غرب افريقيا .
- ٦- ينبع نهر النيجر من هضبة ----- .

(١٠ درجات)

س٢: اذكر السبب لخمسا مما يأتي :

- ١- يتركز السكان بشكل كبير في الاجزاء الجنوبية والشرقية من قارة اسيا .
- ٢- تعد منطقة شرق اسيا من اهم مناطق صيد الاسماك .
- ٣- تتنوع مظاهر السطح في قارة اوربا .
- ٤- ارتفاع انتاجية الفرد والارض الزراعية في قارة اوربا .
- ٥- عدم تشابه الظروف المناخية في نصفي قارة افريقيا الشمالي والجنوبي .
- ٦- حدوث الجفاف وقلة الامطار في صحراء كلهاري .

(١٣ درجة)

س٣: تمتاز المرتفعات الاسبوية بمجموعة من الخصائص . اذكرها .

(١٣ درجة)

س٤: لقد ساهمت مجموعة من العوامل الجغرافية بالتأثير في مناخ قارة اوربا ، بينها ثم وضع تأثير كل عامل .

(١٤ درجة)

س٥: اجب عن فرعين مما يأتي :

(٧ درجات)

ا- تصنف التربة في قارة افريقيا الى مجموعة من الاصناف الرئيسة . عددها فقط .

(٧ درجات)

ب- عدد الاقاليم المناخية والنباتية في قارة افريقيا ثم بين خصائص كل اقليم .

(٧ درجات)

ج- عدد الاقاليم الصناعية في قارة اوربا ثم حدد موقعها الجغرافي .

مع دعائي لكم بالنجاح

رئيس القسم: م. د. اوس علي محمد

مدرس المادة: ا.د. عدنان عطيه محمد



نموذج 2

المادة: اسس مناخ

الوقت: 3 ساعات

المرحلة الاولى الدور الثالث

كلية الآداب قسم الجغرافية التطبيقية

11-08-2024

اللجنة الامتحانية



جامعة تكريت

الامتحانات النهائية

2024-2023

الدور الثاني

وزارة التعليم العالي والبحث العلمي

جامعة تكريت

كلية الآداب

قسم الجغرافية التطبيقية

اللجنة الامتحانية

ملاحظة : اجب عن خمسة اسئلة فقط، لكل سؤال 12 درجة

س1/ اجب بعبارة صح امام العبارة الصحيحة وعبارة خطأ امام العبارة الخاطئة مع تصحيح الخطأ

1- علم المناخ يدرس الظواهر المتمثلة بالقسم الاعلى من الغلاف الجوي .

2- تزداد نسبة الالبيدو كلما كانت الاشعة عمودية .

3- تتصف الجبهة المتجمدة بقلة النشاط لقلة الفرق في خصائص الكتلة الهوائية المتجمدة والقطبية .

4- ينشئ التورنادو غالبا في فصلي الربيع والصيف خاصة بعد الظهر .

5- تنخفض درجة الحرارة درجة مئوية واحدة اذا كان الهواء جاف لكل 100 متر ارتفاع .

س2/ ا/ عدد وشرح انواع الامطار .

ب/ ارسم مخطط يوضح دورة الماء في الطبيعة .

س3/ املأ الفراغات الآتية بما يناسبها :

1- من اسباب تكون الصقيع _____ و _____

2- تعتمد قيمة الميزان الاشعاعي على عوامل منها _____ و _____ و _____

3- من العوامل التي تساعد على تكوين مناطق الشذوذ الحراري _____ و _____ و _____

4- يتناسب الضغط الجوي _____ مع درجة حرارة الهواء

5- تتميز التيارات النفاثة بـ _____ و _____

س4/ ا/ حول 100 درجة مئوية الى الدرجة الفهرنهايتية .

ب/ وزع جغرافيا الاجزاء الجافة في العالم .

س5/ 1- ارسم الدورة العامة للرياح . 2- ارسم الكتل الهوائية المؤثرة على مناخ العراق في فصول السنة .

س6/ ا/ عرف الانقلاب الحراري وعدد وشرح العوامل المساعدة في حدوثه .

ب/ عدد شروط تكون الضباب .

مع تمنياتي لكم بالنجاح


رئيس القسم

د. اوس علي

مدرس المادة

د. حمده حمودي





س1: عرف مايتاتي:

- 1- كولمبس 2- الهضبة اللورنسية 3- السهول الوسطى امريكا الشمالية 4- المرتفعات الغربية لامريكا الجنوبية
5- سهول البمباس ؟

10 درجات

10 درجات

س2: اختر من المتعدد:

1- تعد مدينة اهم مدن اقليم السواحل والمرتفعات الغربية في امريكا الشمالية؟

أ- فانكوفر ب- فكتوريا ج- سان فرانسيسكو د- كاليفورنيا

2- من الاقاليم الطبيعية في كندا يشمل اقليم الهضبة اللورنسية وحوض سانت لورنس بوجزه من اقليم ابلاش الشمالية؟

أ- اقليم السواحل والمرتفعات الشرقية ب- اقليم السهول الوسطى ج- السواحل والمرتفعات الغربية

3- الاقليم ويشمل الجهات التي يزيد ارتفاعها 2000م وتكون الجزء الاكبر من هضبة المكسيك وتكون صالحه للسكن؟

أ- الاقليم المعتدل ب- الاقليم البارد ج- الاقليم الحار د- الاقليم المتجمد

4- تعد من اهم الدول بامريكا الوسطى وجزر الهند الغربية؟ أ- فنزويلا ب- هندوراس ج- كولومبيا د- جواتيمالا

5- تعتبر ولاية اهم ثغور نيوانجلند لها ميناء طبيعي وتحوي على المنسوجات والاحذية والساعات؟

أ- نيويورك ب- سان جون ج- شيكاغو د- بوسطن

6- تعد ولاية من اهم مدن في اقليم الذرة في امريكا الشمالية؟ أ- بفلو ب- ديترويت ج- دبلن د- اوهاها

س3: املا الفراغات بما يناسبها :

10 درجات

1- اهم المدن باقليم المراعي في امريكا الشمالية: 1- 2- 3- ؟

2- اهم المدن باقليم الذرة في امريكا الشمالية: 1- 2- 3- ؟

3- اهم المدن باقليم القمح في امريكا الشمالية: 1- 2- 3- 4- ؟

4- اهم المدن في ابلاش الجنوبية والسهول الساحلية المجاورة في امريكا الشمالية: 1- 2- 3- 4- ؟

5- ماهي الاقليم النباتية في امريكا الشمالية: 1- 2- 3- 4- 5- 6- 7- 8- ؟

6- ماهي الاقليم المناخية في امريكا الشمالية: 1- 2- 3- 4- 5- 6- 7- 8- ؟

10 درجات

س4: تعتبر السهول الوسطى اهم الظواهر الطبيعية في امريكا الشمالية؟

10 درجات

س5: وضح باختصار الهمية الاستراتيجية لقناة بنما ؟

10 درجات

س6: للثروة الحيوانية في امريكا الجنوبية خصائص محددة ؟

رئيس القسم
م.د. اوس علي محمد
2024/5/5



مدرس المادة
أ.د. لطيف مزعل صالح
2024/5/5



ملاحظة: الاجابة على جميع الاسئلة

10 درجات
12 درجاتس1: للثروة الحيوانية في امريكا الجنوبية خصائص محددة ؟
س2: اختر من المتعدد:

- 1- تعد مدينة اهم مدن اقليم السواحل والمرتفعات الغربية في امريكا الشمالية؟
أ- فانكوفر ب- فكتوريا ج- سان فرانسيسكو ه- كاليفورنيا
- 2- من الاقاليم الطبيعية في كندا يشمل اقليم الهضبة اللورنسية وحوض سانت لورنس بوجزه من اقليم ابلاش الشمالية؟
أ- اقليم السواحل والمرتفعات الشرقية ب- اقليم السهول الوسطى ج- السواحل والمرتفعات الغربية
- 3- الاقليم ويشمل الجهات التي يزيد ارتفاعها 2000م وتكون الجزء الاكبر من هضبة المكسيك وتكون صالحه للسكن؟
أ- الاقليم المعتدل ب- الاقليم البارد ج- الاقليم الحار د- الاقليم المتجمد
- 4- تعد من اهم الدول بامريكا الوسطى وجزر الهند الغربية؟ أ- فنزويلا ب- هندوراس ج- كولومبيا د- جواتيمالا
- 5- تعتبر ولاية اهم ثغور نيوانجلند لها ميناء طبيعي وتحوي على المنسوجات والاحذية والساعات؟
أ- نيويورك ب- سان جون ج- شيكاغو ه- بوسطن
- 6- تعد ولاية من اهم مدن في اقليم الذرة في امريكا الشمالية؟ أ- بفلو ب- ديترويت ج- دبلن د- اوماها

س3: املا الفراغات بما يناسبها :

15 درجة

- 1- اهم المدن باقليم المراعي في امريكا الشمالية: 1- 2- 3- ؟
- 2- اهم المدن باقليم الذرة في امريكا الشمالية: 1- 2- 3- ؟
- 3- اهم المدن باقليم القمح في امريكا الشمالية: 1- 2- 3- 4- ؟
- 4- اهم المدن في ابلاش الجنوبية والسهول الساخلة المجاورة في امريكا الشمالية: 1- 3- 3- 4- ؟
- 5- ماهي الاقليم النباتية في امريكا الشمالية: 1- 2- 3- 4- 5- 6- 7- 8- ؟
- 6- ماهي الاقليم المناخية في امريكا الشمالية: 1- 2- 3- 4- 5- 6- 7- 8- ؟

10 درجة

س4: تعتبر السهول الوسطى اهم الظواهر الطبيعية في امريكا الشمالية؟

13 درجات

س5: وضح باختصار الاهمية الاستراتيجية لقناة بنما ؟

س6: عرف ماياتي:

- 1- كرسنوفر كولومبس 2- الهضبة اللورنسية 3- السهول الوسطى امريكا الشمالية 4- المرتفعات الغربية لامريكا الجنوبية
- 5- الرعي البمباس؟

10 درجة

رئيس القسم
م.د. اوس علي محمد
2024/5/ 5



مدرس المادة
أ.د. لطيف مزعل صالح
2024/5/5

نموذج 2
المادة: تحليل كمي
الوقت: 3 ساعات
المرحلة: الثانية

جامعة طبريت
الامتحانات النهائية
2024-2023

وزارة التعليم العالي والبحث العلمي
جامعة تكريت
كلية الآداب
قسم الجغرافية التطبيقية

(الدور الثاني)

ملاحظة: لكل سؤال 14 درجة



س1/1/ عدد وشرح عوامل تطور التحليل الكمي .
س1/ب/ عدد مزايا الاسلوب الكمي .

س2/1/ عرف ما يأتي: 1- المجتمع 2- الفرضية الغائية 3- التعريف الاجرائي 4- البيانات المتصلة.
س2/ب/ اذكر شروط استخدام العينة الطبقية .

س3/1/ ما هي اشكال الانتشار الذي يبين نوع الارتباط .
س3/ب/ احسب الارتباط (كندال) بين كمية الامطار والانتاج كغ/دونم واختبر النتيجة.

الانتاج	500	600	700	800	900	1000	1100
المطر	20	15	22	30	25	40	35

س4/1/

السنة	2019	2018	2017	2016	2015	2014	2013	2012	2011	2010
درجات الحرارة	10	8.9	11.1	9.6	10.9	7.1	5	8.2	9.6	10.2

المطلوب: ارسم البيانات لمعدلات درجات الحرارة لشهر كانون الثاني لمحة من .
س4/ب/ احسب الانحراف المعياري والتباين لبيانات للجدول الخاص ب (س4/أ).

س5/1/ احسب الدرجة المعيارية لبيانات (س4/أ).
س5/ب/ ما نوع العلاقة بين الجغرافية والتحليل الكمي .



رئيس القسم
د. اوس علي

مدرس المادة
د. حمده حمودي

